

### Тестовые задания

Определите один правильный ответ.

За правильный ответ начисляется 4 балла.

1. Определите смысловое значение данного дорожного знака.

- а) запрещение движения на велосипеде
- б) приоритет велосипеда при движении
- в) наличие велосипедной дорожки
- г) пересечение с велосипедной дорожкой или велопешеходной дорожкой



2. Запрещается выгуливать собак, появляться с ними в общественных местах и в транспорте детям младше

- а) 11 лет
- б) 12 лет
- в) 13 лет
- г) 14 лет

3. Определите смысловое значение данного знака, на водных объектах г. Москвы.

- +  а) «Купаться запрещено»
- б) «Входить в воду запрещено»
- в) «Опасно! Грязная вода»
- г) «Купаться запрещено без сопровождения взрослых»



4. Что представляет основную опасность во время грозы?

- +  а) удар молнии
- б) сильный порывистый ветер
- в) ливневый дождь
- г) раскат грома

5. Выберите единый номер системы обеспечения вызова экстренных оперативных служб субъекта Российской Федерации.

- а) 112
- б) 911
- в) 101
- г) 102

6. **Подземные толчки и колебания земной поверхности, возникающие в результате внезапных смещений и разрывов в земной коре или верхней части мантии Земли и передающиеся на большие расстояния в виде упругих колебаний, являются**
- а) землетрясением
  - б) вулканическим землетрясением
  - в) эпицентром землетрясения
  - г) обвалом
7. **Кому необходимо в первую очередь сообщить об обнаружении бесхозной вещи в наземном городском транспорте?**
- а) водителю лично или через пассажиров
  - б) сотруднику полиции по телефону
  - в) сотруднику МЧС по телефону
  - г) диспетчеру по переговорному устройству
8. **Какой витамин образуется в коже из провитаминов под воздействием солнечных лучей?**
- а) А
  - б) В<sub>1</sub>
  - в) С
  - г) D
9. **Какой признак является общим для всех закрытых механических травм?**
- а) деформация
  - б) патологическая подвижность
  - в) отёк
  - г) укорочение повреждённой части конечности
10. **Какое оптимальное положение тела придают пострадавшему с отсутствием сознания?**
- а) лёжа на спине с приподнятой головой
  - б) лёжа на спине на ровной твёрдой поверхности
  - в) полусидя
  - г) устойчивое боковое положение

24

Определите два правильных ответа.

За каждый правильный ответ начисляется 4 балла.

1. Определите смысловое значение и область применения данного знака безопасности на объектах инфраструктуры ОАО «РЖД».

- а) «Запрещается прикасаться. Корпус под напряжением».
- б) «Самовольное открытие и задержка закрытия дверей не допускается!»
- в) размещается в непосредственной близости от входных дверей в вокзал
- г) «Внимание. Опасность зажима».
- д) наклеивается в тамбурах возле автоматических дверей, ведущих на выход



2. Определите смысловое значение и группу данного знака безопасности.

- а) запрещающий знак
- б) «Запрещается прикасаться. Опасно»
- в) «Запрещается нажимать»
- г) предупреждающий знак
- д) «Не включать!»



3. Костёр подъя оптимально использовать для

- а) просушки вещей
- б) подачи светового сигнала
- в) обогрева
- г) приготовления пищи
- д) почёвки

4. Что может являться источником природной ЧС?

- а) зазор
- б) химическая авария
- в) энцизоотия
- г) обвал
- д) катастрофа

5. К признакам возникновения урагана относят

- а) резкое падение атмосферного давления
- б) повышение температуры воздуха
- в) резкое прекращение дождя
- г) дневные дожди
- д) быстрое исчезновение грозных облаков

6. К опасным гидрологическим явлениям и процессам относят

- а) карст
- б) град
- в) ливень
- г) лавину (снежную)
- д) сель

7. В каком положении лучше держать руки, оказавшись в толпе?

- а) перед грудью
- б) перед лицом
- в) отвести сильно в стороны
- г) сцепить в замок
- д) в карманах

8. Выберите группы факторов, которые оказывают равноценное влияние на здоровье человека по данным Всемирной организации здравоохранения.

- а) образ жизни
- б) наследственность
- в) уровень медицинского обеспечения
- г) регулярность диспансеризации
- д) состояние окружающей среды

9. Какие признаки свидетельствуют о наличии у пострадавшего частичной обструкции дыхательных путей при попадании в них инородного тела?

- а) может говорить
- б) не может говорить
- в) кашляет
- г) дыхание значительно затруднено (шумное, хриплое)
- д) дыхание отсутствует

10. Какие действия запрещены при оказании первой помощи пострадавшему с термическим ожогом?

- а) наложение нетугой повязки
- б) вскрытие ожоговых пузырей
- в) смазывание повреждённого участка жирами
- г) охлаждение повреждённого участка
- д) иммобилизация при глубоких ожогах



24

### Теоретические задания

#### Задание 1

Расположите предложенные фрагменты в верной последовательности, чтобы в итоге получилось определение одного из участников дорожного движения.

вне транспортного средства на
лицо, находящееся
не производящее на них работу
велопешеходной дорожке и
дороге либо на пешеходной или

1
2
3
4
5

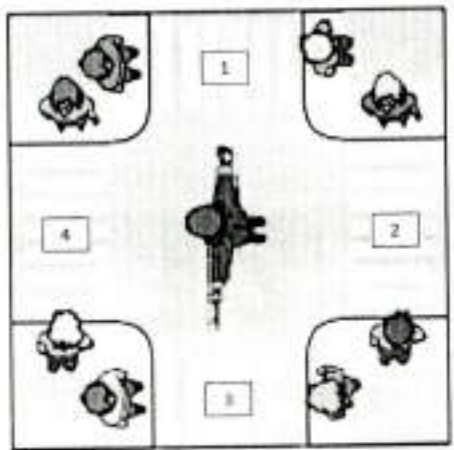
Запишите термин, определение которому Вы составили.

*Пешеход* +

По каким пешеходным переходам могут передвигаться люди в изображённой ситуации? Выберите все верные ответы.

- 1
- 2
- 3
- 4

+



125

### Задание 2

В вестибюле станции метрополитена размещён знак безопасности. О чём он предупреждает?

- «Осторожно. Мало заметное препятствие»
- «Осторожно. Скользко»
- «Осторожно. Возможность падения с высоты»
- «Осторожно. Возможно опрокидывание»



Выберите пять правил безопасности на эскалаторе.

- Стой справа, лицом по направлению движения.
- Если нужно спуститься, то делай это с правой стороны, при этом не держись за поручень.
- Стой слева, лицом по направлению движения.
- Если нужно спуститься, то делай это с левой стороны и держись за поручень.
- Не наступать на ограничительную линию на ступенях и не задерживаться при спуске с эскалатора.
- При спуске с эскалатора остановись и осмотрись, прежде чем сделать шаг.
- На эскалаторе нельзя сидеть и бегать.
- Сидеть на ступенях эскалатора можно только по направлению движения.
- Не ставить вещи на ступени и поручни.
- На ступени и поручни можно ставить вещи, сумма измерений которых по длине, ширине и высоте не превышает 150 см.

86

**Задание 3**

Объекты железнодорожного транспорта являются зонами повышенной опасности, на которых действуют определённые правила поведения. Укажите, какие действия запрещены, а какие необходимо выполнять с целью обеспечения безопасности на объектах железнодорожного транспорта.

перед переходом через железнодорожные пути по пешеходному настилу обеспечивать личную зону видимости		запрещённые действия
прыгать с пассажирской платформы		
ходить вдоль железнодорожных путей		
подавать сигнал для остановки поезда в случаях возникновения ситуации, требующей экстренной остановки железнодорожного подвижного состава		
передвигаться на самокатах и роликовых коньках		необходимые действия
пропускать малолетних детей впереди себя при посадке в вагон		
использовать наушники для прослушивания музыки, находясь на пассажирской платформе		
информировать о посторонних и (или) забытых предметах работников железнодорожного транспорта		

148

### Задание 4

Выберите безопасные и небезопасные действия во время грозы.

прятаться под низкими деревьями и кустарниками		безопасно
присесть спиной к стволу дерева		
сидеть в позе эмбриона		
распластаться на земле		
встать под одинокое дерево, стог сена, столб		
сесть как можно ниже		небезопасно
подняться на возвышенность		
при нахождении в воде выйти из воды и отойти от неё не менее чем на 100 м		
не приближаться к одиноко стоящим объектам		
при нахождении в воде подойти ближе к низкорослой растительности, находящейся в воде		

65

Выберите пять деревьев, в которые чаще всего бьёт молния.

- акация
- бук
- липа
- дуб
- тополь
- ель
- сосна
- берёза

85



05.02.14

205

### Задание 5

Бинтовые повязки накладываются по определённым правилам. Определите пять правил наложения бинтовых повязок, которые являются верными.

- Во время перевязки рекомендуется стоять лицом к пострадавшему (по возможности)
- Расположение человека, накладывающего повязку, относительно пострадавшего не имеет значения
- Положение перевязываемой части тела можно менять в процессе перевязки
- Положение перевязываемой части тела нельзя менять в процессе перевязки
- Ширина бинта должна быть равна или больше диаметра перевязываемой конечности
- Ширина бинта должна быть меньше диаметра перевязываемой части тела
- Туры бинта накладываются по часовой стрелке относительно бинтуемого (преимущественно)
- Туры бинта накладываются всегда против часовой стрелки относительно бинтуемого
- Повязку следует начинать накладывать с более узкого места, постепенно переходя к более широкому
- Повязку следует начинать накладывать с более широкого места, постепенно переходя к более узкому

**Максимальная оценка за работу – 200 баллов.**



ВСЕРОССИЙСКАЯ ОЛИМПИАДА  
ШКОЛЬНИКОВ ПО ОБЖ. 2023–2024 уч. г.  
ШКОЛЬНЫЙ ЭТАП. 5–6 КЛАССЫ

12

## Тестовые задания

Определите один правильный ответ.

За правильный ответ начисляется 4 балла.

1. Определите смысловое значение данного дорожного знака.

- а) запрещение движения на велосипеде  
б) приоритет велосипеда при движении  
в) наличие велосипедной дорожки  
г) пересечение с велосипедной дорожкой или велопешеходной дорожкой



2. Запрещается выгуливать собак, появляться с ними в общественных местах и в транспорте детям младше

- а) 11 лет  
б) 12 лет  
в) 13 лет  
г) 14 лет

3. Определите смысловое значение данного знака, на водных объектах г. Москвы.

- а) «Купаться запрещено»  
б) «Входить в воду запрещено»  
в) «Опасно! Грязная вода»  
г) «Купаться запрещено без сопровождения взрослых»



4. Что представляет основную опасность во время грозы?

- а) удар молнии  
б) сильный порывистый ветер  
в) ливневый дождь  
г) раскат грома

5. Выберите единый номер системы обеспечения вызова экстренных оперативных служб субъекта Российской Федерации.

- а) 112  
б) 911  
в) 101  
г) 102

6. **Подземные толчки и колебания земной поверхности, возникающие в результате внезапных смещений и разрывов в земной коре или верхней части мантии Земли и передающиеся на большие расстояния в виде упругих колебаний, являются**
- а) землетрясением
  - б) вулканическим землетрясением
  - в) эпицентром землетрясения
  - г) обвалом
7. **Кому необходимо в первую очередь сообщить об обнаружении бесхозной вещи в наземном городском транспорте?**
- а) водителю лично или через пассажиров
  - б) сотруднику полиции по телефону
  - в) сотруднику МЧС по телефону
  - г) диспетчеру по переговорному устройству
8. **Какой витамин образуется в коже из провитаминов под воздействием солнечных лучей?**
- а) А
  - б) В<sub>1</sub>
  - в) С
  - г) D
9. **Какой признак является общим для всех закрытых механических травм?**
- а) деформация
  - б) патологическая подвижность
  - в) отёк
  - г) укорочение повреждённой части конечности
10. **Какое оптимальное положение тела придают пострадавшему с отсутствием сознания?**
- а) лёжа на спине с приподнятой головой
  - б) лёжа на спине на ровной твёрдой поверхности
  - в) полусидя
  - г) устойчивое боковое положение



165

Определите два правильных ответа.

За каждый правильный ответ начисляется 4 балла.

1. Определите смысловое значение и область применения данного знака безопасности на объектах инфраструктуры ОАО «РЖД».

- а) «Запрещается прикасаться. Корпус под напряжением».  
 б) «Самовольное открытие и задержка закрытия дверей не допускается!»  
 в) размещается в непосредственной близости от входных дверей в вокзал  
 г) «Внимание. Опасность зажима».  
 д) наклеивается в тамбурах возле автоматических дверей, ведущих на выход



2. Определите смысловое значение и группу данного знака безопасности.

- а) запрещающий знак  
 б) «Запрещается прикасаться. Опасно»  
 в) «Запрещается нажимать»  
 г) предупреждающий знак  
 д) «Не включать!»



3. Костёр подъя оптимально использовать для

- а) просушки вещей  
 б) подачи светового сигнала  
 в) обогрева  
 г) приготовления пищи  
 д) почёвки

4. Что может являться источником природной ЧС?

- а) зажор  
 б) химическая авария  
 в) эпизоотия  
 г) обвал  
 д) катастрофа

5. К признакам возникновения урагана относят

- а) резкое падение атмосферного давления  
 б) повышение температуры воздуха  
 в) резкое прекращение дождя  
 г) ливневые дожди  
 д) быстрое исчезновение грозных облаков

6. К опасным гидрологическим явлениям и процессам относят
- а) карст
  - б) град
  - в) ливень
  - г) лавину (снежную)
  - д) селя
7. В каком положении лучше держать руки, оказавшись в толпе?
- а) перед грудью
  - б) перед лицом
  - в) отвести сильно в стороны
  - г) сцепить в замок
  - д) в карманах
8. Выберите группы факторов, которые оказывают равноценное влияние на здоровье человека по данным Всемирной организации здравоохранения.
- а) образ жизни
  - б) наследственность
  - в) уровень медицинского обеспечения
  - г) регулярность диспансеризации
  - д) состояние окружающей среды
9. Какие признаки свидетельствуют о наличии у пострадавшего частичной обструкции дыхательных путей при попадании в них инородного тела?
- а) может говорить
  - б) не может говорить
  - в) кашляет
  - г) дыхание значительно затруднено (шумное, хриплое)
  - д) дыхание отсутствует
10. Какие действия запрещены при оказании первой помощи пострадавшему с термическим ожогом?
- а) наложение нетугой повязки
  - б) вскрытие ожоговых пузырей
  - в) смазывание повреждённого участка жирами
  - г) охлаждение повреждённого участка
  - д) иммобилизация при глубоких ожогах

205

### Теоретические задания

#### Задание 1

Расположите предложенные фрагменты в верной последовательности, чтобы в итоге получилось определение одного из участников дорожного движения.

2	вне транспортного средства на
1	лицо, находящееся
5	не производящее на них работу
3	велонепешеходной дорожке и
4	дороге либо на пешеходной или

1
2
3
4
5

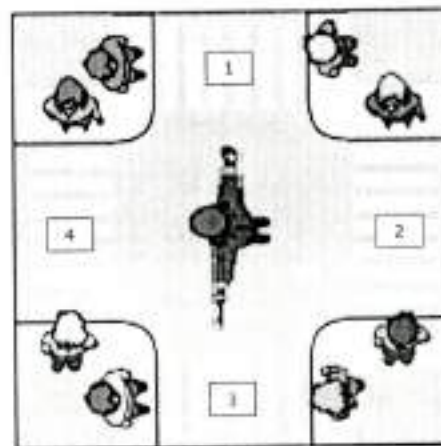
Запишите термин, определение которому Вы составили.

+ ЛЕШЕХОД

По каким пешеходным переходам могут передвигаться люди в изображённой ситуации? Выберите все верные ответы.

- 1  
 2  
 3  
 4

+



105

## Задание 2

В вестибюле станции метрополитена размещён знак безопасности. О чём он предупреждает?

- «Осторожно. Мало заметное препятствие»
- «Осторожно. Скользко»
- «Осторожно. Возможность падения с высоты»
- «Осторожно. Возможно опрокидывание»



Выберите пять правил безопасности на эскалаторе.

- Стой справа, лицом по направлению движения.
- Если нужно спуститься, то делай это с правой стороны, при этом не держись за поручень.
- Стой слева, лицом по направлению движения.
- Если нужно спуститься, то делай это с левой стороны и держись за поручень.
- Не наступать на ограничительную линию на ступенях и не задерживаться при спуске с эскалатора.
- При спуске с эскалатора остановись и осмотрись, прежде чем сделать шаг.
- На эскалаторе нельзя сидеть и бегать.
- Сидеть на ступенях эскалатора можно только по направлению движения.
- Не ставить вещи на ступени и поручни.
- На ступени и поручни можно ставить вещи, сумма измерений которых по длине, ширине и высоте не превышает 150 см.



85

### Задание 3

Объекты железнодорожного транспорта являются зонами повышенной опасности, на которых действуют определённые правила поведения. Укажите, какие действия запрещены, а какие необходимо выполнять с целью обеспечения безопасности на объектах железнодорожного транспорта.

1	перед переходом через железнодорожные пути по пешеходному настилу обеспечивать личную зону видимости	запрещённые действия
2	прыгать с пассажирской платформы	
3	ходить вдоль железнодорожных путей	
4	подавать сигнал для остановки поезда в случаях возникновения ситуации, требующей экстренной остановки железнодорожного подвижного состава	
5	передвигаться на самокатах и роликовых коньках	необходимые действия
6	пропускать малолетних детей впереди себя при посадке в вагон	
7	использовать наушники для прослушивания музыки, находясь на пассажирской платформе	
8	информировать о посторонних и (или) забытых предметах работников железнодорожного транспорта	

2, 3, 5, 7

+

запрещённые действия

1, 4, 6, 8

+

необходимые действия

## Задание 4

Выберите безопасные и небезопасные действия во время грозы.

1	прятаться под низкими деревьями и кустарниками		3,6,8,9
2	прижаться спиной к стволу дерева		безопасно
3	сидеть в позе эмбриона		безопасно
4	распластаться на земле		1,2,4,5,7
5	встать под одинокое дерево, стог сена, столб		10
6	сесть как можно ниже		безопасно
7	подняться на возвышенность		10
8	при нахождении в воде выйти из воды и отойти от неё не менее чем на 100 м		безопасно
9	не приближаться к одиноко стоящим объектам		безопасно
10	при нахождении в воде подойти ближе к низкорослой растительности, находящейся в воде	небезопасно	

Выберите пять деревьев, в которые чаще всего бьёт молния.

- акация
- бук
- липа
- дуб
- тополь
- ель
- сосна
- берёза

85


**Задание 5**

Бинтовые повязки накладываются по определённым правилам. Определите, пять правил наложения бинтовых повязок, которые являются верными.

- Во время перевязки рекомендуется стоять лицом к пострадавшему (по возможности)
- Расположение человека, накладывающего повязку, относительно пострадавшего не имеет значения
- Положение перевязываемой части тела можно менять в процессе перевязки
- Положение перевязываемой части тела нельзя менять в процессе перевязки
- Ширина бинта должна быть равна или больше диаметра перевязываемой конечности
- Ширина бинта должна быть меньше диаметра перевязываемой части тела
- Туры бинта накладываются по часовой стрелке относительно бинтуемого (преимущественно)
- Туры бинта накладываются всегда против часовой стрелки относительно бинтуемого
- Повязку следует начинать накладывать с более узкого места, постепенно переходя к более широкому
- Повязку следует начинать накладывать с более широкого места, постепенно переходя к более узкому

16

Максимальная оценка за работу – 200 баллов.





925

ВСЕРОССИЙСКАЯ ОЛИМПИАДА  
ШКОЛЬНИКОВ ПО ОБЖ. 2023–2024 уч. г.  
ШКОЛЬНЫЙ ЭТАП. 5–6 КЛАССЫ

05 № 208

Тестовые задания

Определите один правильный ответ.

За правильный ответ начисляется 4 балла.

1. Определите смысловое значение данного дорожного знака.

- а) запрещение движения на велосипеде
- б) приоритет велосипеда при движении
- в) наличие велосипедной дорожки
- г) пересечение с велосипедной дорожкой или велопешеходной дорожкой



2. Запрещается выгуливать собак, появляться с ними в общественных местах и в транспорте детям младше

- а) 11 лет
- б) 12 лет
- в) 13 лет
- г) 14 лет

3. Определите смысловое значение данного знака, на водных объектах г. Москвы.

- а) «Купаться запрещено»
- б) «Входить в воду запрещено»
- в) «Опасно! Грязная вода»
- г) «Купаться запрещено без сопровождения взрослых»



4. Что представляет основную опасность во время грозы?

- а) удар молнии
- б) сильный порывистый ветер
- в) ливневый дождь
- г) раскат грома

5. Выберите единственный номер системы обеспечения вызова экстренных оперативных служб субъекта Российской Федерации.

- а) 112
- б) 911
- в) 101
- г) 102

6. **Подземные толчки и колебания земной поверхности, возникающие в результате внезапных смещений и разрывов в земной коре или верхней части мантии Земли и передающиеся на большие расстояния в виде упругих колебаний, являются**
- а) землетрясением
  - б) вулканическим землетрясением
  - в) эпицентром землетрясения
  - г) обвалом
7. **Кому необходимо в первую очередь сообщить об обнаружении бесхозной вещи в наземном городском транспорте?**
- а) водителю лично или через пассажиров
  - б) сотруднику полиции по телефону
  - в) сотруднику МЧС по телефону
  - г) диспетчеру по переговорному устройству
8. **Какой витамин образуется в коже из провитаминов под воздействием солнечных лучей?**
- а) А
  - б) В<sub>1</sub>
  - в) С
  - г) D
9. **Какой признак является общим для всех закрытых механических травм?**
- а) деформация
  - б) патологическая подвижность
  - в) отёк
  - г) укорочение повреждённой части конечности
10. **Какое оптимальное положение тела придают пострадавшему с отсутствием сознания?**
- а) лёжа на спине с приподнятой головой
  - б) лёжа на спине на ровной твёрдой поверхности
  - в) полусидя
  - г) устойчивое боковое положение

**Определите два правильных ответа.**

За каждый правильный ответ начисляется 4 балла.

1. Определите смысловое значение и область применения данного знака безопасности на объектах инфраструктуры ОАО «РЖД».

- а) «Запрещается прикасаться. Корпус под напряжением».
- б) «Самовольное открытие и задержка закрытия дверей не допускается!»
- в) размещается в непосредственной близости от входных дверей в вокзал
- г) «Внимание. Опасность зажима».
- д) наклеивается в тамбурах возле автоматических дверей, ведущих на выход



2. Определите смысловое значение и группу данного знака безопасности.

- а) запрещающий знак
- б) «Запрещается прикасаться. Опасно»
- в) «Запрещается нажимать»
- г) предупреждающий знак
- д) «Не включать!»



3. Костёр подъя оптимально использовать для

- а) просушки вещей
- б) подачи светового сигнала
- в) обогрева
- г) приготовления пищи
- д) почёвки

4. Что может являться источником природной ЧС?

- а) загор
- б) химическая авария
- в) эпизоотия
- г) обвал
- д) катастрофа

5. К признакам возникновения урагана относят

- а) резкое падение атмосферного давления
- б) повышение температуры воздуха
- в) резкое прекращение дождя
- г) ливневые дожди
- д) быстрое исчезновение грозных облаков

6. К опасным гидрологическим явлениям и процессам относят
- а) карст
  - б) град
  - в) ливень
  - + г) лавину (снежную)
  - д) селя
7. В каком положении лучше держать руки, оказавшись в толпе?
- а) перед грудью
  - б) перед лицом
  - в) отвести сильно в стороны
  - г) сцепить в замок
  - д) в карманах
8. Выберите группы факторов, которые оказывают равноценное влияние на здоровье человека по данным Всемирной организации здравоохранения.
- ~~а) образ жизни~~
  - б) наследственность
  - в) уровень медицинского обеспечения
  - + г) регулярность диспансеризации
  - д) состояние окружающей среды
9. Какие признаки свидетельствуют о наличии у пострадавшего частичной обструкции дыхательных путей при попадании в них инородного тела?
- а) может говорить
  - б) не может говорить
  - в) кашляет
  - г) дыхание значительно затруднено (шумное, хриплое)
  - д) дыхание отсутствует
- + 10. Какие действия запрещены при оказании первой помощи пострадавшему с термическим ожогом?
- а) наложение нетугой повязки
  - б) вскрытие ожоговых пузырей
  - в) смазывание повреждённого участка жирами
  - г) охлаждение повреждённого участка
  - ~~д) иммобилизация при глубоких ожогах~~



### Теоретические задания

#### Задание 1

Расположите предложенные фрагменты в верной последовательности, чтобы в итоге получилось определение одного из участников дорожного движения.

вне транспортного средства на
лицо, находящееся
не производящее на них работу
велосипедной дорожке и
дороге либо на пешеходной или

1
2
3
4
5

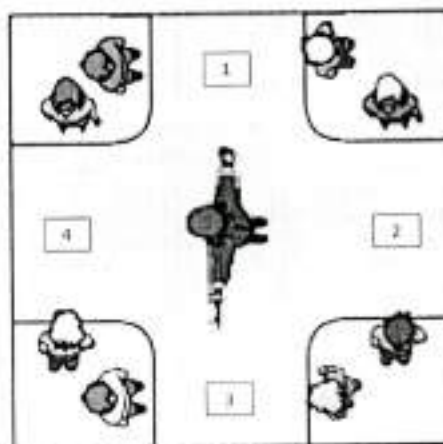
Запишите термин, определение которому Вы составили.

+ *пешеход*

По каким пешеходным переходам могут передвигаться люди в изображённой ситуации? Выберите все верные ответы.

- 1
- 2
- 3
- 4

+



*205*



### Задание 3

Объекты железнодорожного транспорта являются зонами повышенной опасности, на которых действуют определённые правила поведения. Укажите, какие действия запрещены, а какие необходимо выполнять с целью обеспечения безопасности на объектах железнодорожного транспорта.

перед переходом через железнодорожные пути по пешеходному настилу обеспечивать личную зону видимости		запрещённые действия
прыгать с пассажирской платформы		
ходить вдоль железнодорожных путей		
подавать сигнал для остановки поезда в случаях возникновения ситуации, требующей экстренной остановки железнодорожного подвижного состава		необходимые действия
передвигаться на самокатах и роликовых коньках		
пропускать малолетних детей впереди себя при посадке в вагон		
использовать наушники для прослушивания музыки, находясь на пассажирской платформе		
информировать о посторонних и (или) забытых предметах работников железнодорожного транспорта		

75

### Задание 5

Бинтовые повязки накладываются по определённым правилам. Определите, пять правил наложения бинтовых повязок, которые являются верными.

- Во время перевязки рекомендуется стоять лицом к пострадавшему (по возможности) +
- Расположение человека, накладывающего повязку, относительно пострадавшего не имеет значения
- Положение перевязываемой части тела можно менять в процессе перевязки
- Положение перевязываемой части тела нельзя менять в процессе перевязки +
- Ширина бинта должна быть равна или больше диаметра перевязываемой конечности +
- Ширина бинта должна быть меньше диаметра перевязываемой части тела
- Туры бинта накладываются по часовой стрелке относительно бинтуемого (преимущественно) +
- Туры бинта накладываются всегда против часовой стрелки относительно бинтуемого
- Повязку следует начинать накладывать с более узкого места, постепенно переходя к более широкому
- Повязку следует начинать накладывать с более широкого места, постепенно переходя к более узкому -

165

Максимальная оценка за работу – 200 баллов.



ВСЕРОССИЙСКАЯ ОЛИМПИАДА  
ШКОЛЬНИКОВ ПО ОБЖ. 2023–2024 уч. г.  
ШКОЛЬНЫЙ ЭТАП. 7–8 КЛАССЫ

47

60

## Тестовые задания

Определите один правильный ответ.

За правильный ответ начисляется 2 балла.

1. Определите смысловое значение изображённого дорожного знака.

- а) велосипедная дорожка  
б) приоритет велосипеда при движении  
в) полоса для велосипедистов  
г) пересечение с велосипедной дорожкой или велосипедной дорожкой



2. Владелец имеет право оставлять свою собаку привязанной возле магазина на

- а) неограниченное время в наморднике  
б) неограниченное время, на коротком поводке  
в) ограниченное время, на длинном поводке, но в наморднике  
г) ограниченное время, на коротком поводке

3. Определите смысловое значение данного знака на водных объектах г. Москвы.

- а) «В воде проводятся очистительные работы»  
б) «Стоять! Опасное дно»  
в) «Входить в воду запрещено!»  
г) «Опасно! Грязная вода»



4. Молния опасна тогда, когда велел за вешешкой следует

- а) сильный порывистый ветер  
б) раскат грома  
в) ливневый дождь  
г) период затишья в течение не менее 10 секунд

5. Резкое кратковременное усиление ветра до 20–30 м/с и выше, сопровождающееся изменением его направления, связанное с конвективными процессами, – это

- а) вихрь  
б) смерч  
в) циклон  
г) шквал



6. **Отрыв и падение больших масс горных пород на крутых и обрывистых склонах гор, речных долин и морских побережий, происходящих главным образом за счёт ослабления связности горных пород под влиянием процессов выветривания, деятельности поверхностных и подземных вод, является**
- а) оползнем
  - б) карстовой просадкой
  - в) обвалом
  - г) курумом
7. **Кому в первую очередь необходимо сообщить об обнаружении подозрительного предмета в вагоне метро?**
- а) сотруднику МЧС по телефону
  - б) дежурному на станции по переговорному устройству
  - в) сотруднику полиции по телефону
  - г) машинисту поезда по переговорному устройству
8. **Наибольшей энергетической ценностью обладают**
- а) белки
  - б) углеводы
  - в) жиры
  - г) минеральные вещества
9. **При какой травме и (или) состоянии пострадавшему придают оптимальное положение тела, изображённое на рисунке?**
- а) большая кровопотеря, пострадавший в сознании
  - б) большая кровопотеря, пострадавший без сознания
  - в) травма груди, пострадавший в сознании
  - г) травма головы, пострадавший без сознания





10

**Определите два правильных ответа.**

За каждый правильный ответ начисляется 2 балла.

1. **Определите смысловое значение и область применения данного знака безопасности на объектах инфраструктуры ОАО «РЖД».**

а) устанавливается на территории платформ железнодорожных станций и вокзалов, у переходов и переездов через железнодорожные пути

б) «Берегись поезда!»

+  в) устанавливается в местах прохода граждан через железнодорожные пути

г) «Движение скоростных поездов»

д) «Переходить через железнодорожные пути опасно»



2. **Определите смысловое значение и группу данного знака безопасности.**

+  а) предупреждающий знак

б) «Ядовитые вещества»

в) предписывающий знак

г) «Запрещается брать руками»

д) «Опасно. Едкие и коррозионные вещества»



3. **Какие узлы рекомендуется использовать для закрепления веревок к опоре?**

а) будиль

-  б) грейпвайн

в) «двойной проводник»

г) прусик

д) «штык»

4. **Выберите параметры природной ЧС локального характера, территория которой не выходит за пределы территории объекта.**

+  а) количество людей, погибших и (или) получивших ущерб здоровью, составляет не более 50 человек

б) размер ущерба окружающей природной среде и материальных потерь составляет не более 240 тыс. рублей

в) размер материального ущерба составляет не более 12 млн рублей

г) количество людей, погибших и (или) получивших ущерб здоровью, составляет не более 10 человек

д) количество людей, погибших и (или) получивших ущерб здоровью, составляет свыше 50 человек, но не более 500 человек

5. Какие из перечисленных служб входят в перечень экстренных оперативных служб, вызов которых круглосуточно и бесплатно обязан обеспечить оператор связи пользователем услугами связи?
- а) служба реагирования в чрезвычайных ситуациях
  - б) служба «ГосОплотв»
  - в) служба «Антитеррор»
  - г) служба экстренного реагирования на землетрясение
  - д) служба вневедомственной охраны МВД РФ
6. К опасным геологическим явлениям и процессам относят
- а) переработку берегов
  - б) просадку в лессовых грунтах
  - в) сель
  - г) торфяной пожар
  - д) пыльную бурю
7. Сообщения какой тематики принимает Главное управление по противодействию экстремизму МВД России?
- а) о скулуштунге
  - б) о распространении информации, наносящей вред здоровью и развитию детей
  - в) об актах суицида
  - г) об интернет-мошенничестве
  - д) о пропаганде социальной, расовой, национальной или религиозной розни
8. Выберите периоды максимальной работоспособности в течение суток.
- а) 6:00–8:00
  - б) 9:00–12:00
  - в) 12:00–15:00
  - г) 16:00–18:00
  - д) 19:00–21:00
9. При каких состояниях оказывается первая помощь?
- а) отсутствие сознания
  - б) повышение температуры тела до 39 °С
  - в) повышение артериального давления
  - г) отравление
  - д) аллергическая реакция на коже в виде характерной сыпи (крапивница)
10. Какие мероприятия по поддержанию проходимости дыхательных путей применяются при оказании первой помощи?
- а) придание устойчивого бокового положения
  - б) использование S-образного воздуховода
  - в) интубация трахеи
  - г) использование медицинской лицевой маски с обратным клапаном
  - д) запрокидывание головы с подъёмом подбородка

10

### Теоретические задания

#### Задание 1

Расположите предложенные фрагменты в верной последовательности, чтобы в итоге получилось определение.

для перевозки по	_____	1
дорогам людей, грузов или	_____	2
оборудования, установленного на нём	_____	3
устройство, предназначенное	_____	4

Запишите термин, определение которому Вы составили.






7

*Транспортное средство*

Укажите, какие сигналы рукой должен подать велосипедист для обозначения:

- поворот направо;
- торможение.

+

				
поворот направо		торможение		

1

### Задание 2

Сопоставьте изображения визуальных сигналов, передаваемых потерпевшими бедствие экипажам поисково-спасательных самолётов (вертолётов), с их значениями.

Изображения визуальных сигналов	Значения визуальных сигналов
<b>F</b>	«Операции закончены»
<b>X</b>	«Требуется медицинская помощь»
<b>II</b>	«Требуется карта и компас»
<b>□</b>	«Не понял»
<b>↑</b>	«Всё в порядке»
<b>H</b>	«Судно серьёзно повреждено»
<b>L</b>	«Требуется топливо и масло»
<b>LL</b>	«Двигаемся в этом направлении»
<b>JL</b>	«Нужны медикаменты»
<b>LLL</b>	«Нужны пища и вода»



65

**Задание 4**

Вы увидели, как турист упал с обрыва и ударился животом о камень. Удар пришёлся в левое подреберье. Пострадавший жалуется на боли в животе, слабость, головокружение. При осмотре отмечается бледность кожных покровов, частый слабый пульс.

Расставьте мероприятия первой помощи в очередности их выполнения.

1  
2  
3  
4  
5  
6

2	Выполнить подробный осмотр пострадавшего (выявить болезненность в области живота).
3	Провести обзорный осмотр пострадавшего на наличие наружного кровотечения (убедиться в его отсутствии).
4	Оценить обстановку, убедиться в безопасности оказания первой помощи.
5	Оказать пострадавшему психологическую помощь (разговаривать с пострадавшим до приезда скорой медицинской помощи (СМП)), передать пострадавшего бригаде СМП.
6	Придать пострадавшему оптимальное положение тела, приложить холод к животу (по возможности), вызвать скорую медицинскую помощь.

**Максимальная оценка за работу – 100 баллов.**



0

### Задание 3

Каждому из перечисленных событий подберите соответствующую ему дату.

Наименование профессионального праздника (памятной даты)	Число и месяц, когда это событие празднуется
Всемирный день гражданской обороны	30 апреля
День участников ликвидации последствий радиационных аварий и катастроф и памяти жертв этих аварий и катастроф	27 декабря
День пожарной охраны России	26 апреля
День сотрудника органов внутренних дел Российской Федерации	10 ноября
День создания органов государственного пожарного надзора	1 марта
День Героев Отечества	4 октября
День спасателя Российской Федерации	18 июля
День памяти о россиянах, исполнявших служебный долг за пределами Отечества	15 февраля
День государственной горноспасательной службы	6 июля
День гражданской обороны России	9 декабря

ВСЕРОССИЙСКАЯ ОЛИМПИАДА  
ШКОЛЬНИКОВ ПО ОБЖ. 2023–2024 уч. г.  
ШКОЛЬНЫЙ ЭТАП. 7–8 КЛАССЫ

43

## Тестовые задания

Определите один правильный ответ.

За правильный ответ начисляется 2 балла.

1. Определите смысловое значение изображённого дорожного знака.

- а) велосипедная дорожка  
 б) приоритет велосипеда при движении  
 в) полоса для велосипедистов  
 г) пересечение с велосипедной дорожкой или велопешеходной дорожкой



2. Владелец имеет право оставлять свою собаку привязанной возле магазина на

- а) неограниченное время в наморднике  
 б) неограниченное время, на коротком поводке  
 в) ограниченное время, на длинном поводке, но в наморднике  
 г) ограниченное время, на коротком поводке

3. Определите смысловое значение данного знака на водных объектах г. Москвы.

- а) «В воде проводятся очистительные работы»  
 б) «Стоять! Опасное дно»  
 в) «Входить в воду запрещено!»  
 г) «Опасно! Грязная вода»



4. Молния опасна тогда, когда велед за вепьшкой следует

- а) сильный порывистый ветер  
 б) раскат грома  
 в) ливневый дождь  
 г) период загнинья в течение не менее 10 секунд

5. Резкое кратковременное усиление ветра до 20–30 м/с и выше, сопровождающееся изменением его направления, связанное с конвективными процессами, – это

- а) вихрь  
 б) смерч  
 в) циклон  
 г) шквал

6. **Отрыв и падение больших масс горных пород на крутых и обрывистых склонах гор, речных долин и морских побережий, происходящих главным образом за счёт ослабления связности горных пород под влиянием процессов выветривания, деятельности поверхностных и подземных вод, является**
- а) оползнем
  - б) карстовой просадкой
  - + в) обвалом
  - г) курумом
7. **Кому в первую очередь необходимо сообщить об обнаружении подозрительного предмета в вагоне метро?**
- а) сотруднику МЧС по телефону
  - б) дежурному на станции по переговорному устройству
  - + в) сотруднику полиции по телефону
  - г) машинисту поезда по переговорному устройству
8. **Наибольшей энергетической ценностью обладают**
- а) белки
  - б) углеводы
  - в) жиры
  - г) минеральные вещества
9. **При какой травме и (или) состоянии пострадавшему придают оптимальное положение тела, изображённое на рисунке?**
- а) большая кровопотеря, пострадавший в сознании
  - б) большая кровопотеря, пострадавший без сознания
  - в) травма груди, пострадавший в сознании
  - г) травма головы, пострадавший без сознания





14

**Определите два правильных ответа.**

За каждый правильный ответ начисляется 2 балла.

1. **Определите смысловое значение и область применения данного знака безопасности на объектах инфраструктуры ОАО «РЖД».**

устанавливается на территории платформ железнодорожных станций и вокзалов, у переходов и переездов через железнодорожные пути

«Берегись поезда!»

устанавливается в местах прохода граждан через железнодорожные пути

г) «Движение скоростных поездов»

д) «Переходить через железнодорожные пути опасно»



2. **Определите смысловое значение и группу данного знака безопасности.**

предупреждающий знак

«Ядовитые вещества»

в) предписывающий знак

г) «Запрещается брать руками»

«Опасно. Едкие и коррозионные вещества»



3. **Какие узлы рекомендуется использовать для закрепления веревок к опоре?**

а) булинь

грейпвайн

«двойной проводник»

г) прусик

д) «штык»

4. **Выберите параметры природной ЧС локального характера, территория которой не выходит за пределы территории объекта.**

количество людей, погибших и (или) получивших ущерб здоровью, составляет не более 50 человек

размер ущерба окружающей природной среде и материальных потерь составляет не более 240 тыс. рублей

в) размер материального ущерба составляет не более 12 млн рублей

количество людей, погибших и (или) получивших ущерб здоровью, составляет не более 10 человек

д) количество людей, погибших и (или) получивших ущерб здоровью, составляет свыше 50 человек, но не более 500 человек

5. Какие из перечисленных служб входят в перечень экстренных оперативных служб, вызов которых круглосуточно и бесплатно обязан обеспечить оператор связи пользователем услугами связи?

- +  а) служба реагирования в чрезвычайных ситуациях  
 б) служба «ГосОглов»  
 в) служба «Антитеррор»  
 г) служба экстренного реагирования на землетрясение  
 д) служба вневедомственной охраны МВД РФ

6. К опасным геологическим явлениям и процессам относят

- а) переработку берегов  
 б) просадку в лесовых грунтах  
 в) сель  
 г) торфяной пожар  
 д) пыльную бурю

7. Сообщения какой тематики принимает Главное управление по противодействию экстремизму МВД России?

- а) о скулптуринге  
 б) о распространении информации, наносящей вред здоровью и развитию детей  
 в) об актах суицида  
 г) об интернет-мошенничестве  
 д) о пропаганде социальной, расовой, национальной или религиозной розни

8. Выберите периоды максимальной работоспособности в течение суток.

- +  а) 6:00–8:00  
 б) 9:00–12:00  
 в) 12:00–15:00  
 г) 16:00–18:00  
 д) 19:00–21:00

9. При каких состояниях оказывается первая помощь?

- +  а) отсутствие сознания  
 б) повышение температуры тела до 39 °С  
 в) повышение артериального давления  
 г) отравление  
 д) аллергическая реакция на коже в виде характерной сыпи (крапивница)

10. Какие мероприятия по поддержанию проходимости дыхательных путей применяются при оказании первой помощи?

- +  а) придание устойчивого бокового положения  
 б) использование S-образного воздуховода  
 в) интубация трахеи  
 г) использование медицинской лицевой маски с обратным клапаном  
 д) запрокидывание головы с подъемом подбородка



УС

### Задание 2

Сопоставьте изображения визуальных сигналов, передаваемых потерпевшими бедствие экипажам поисково-спасательных самолётов (вертолётов), с их значениями.

Изображения визуальных сигналов	Значения визуальных сигналов
<b>F</b>	«Операции закончены»
<b>X</b>	«Требуется медицинская помощь»
<b>  </b>	«Требуется карта и компас»
<b>□</b>	«Не понял»
<b>↑</b>	«Всё в порядке»
<b>H</b>	«Судно серьёзно повреждено»
<b>L</b>	«Требуется топливо и масло»
<b>LL</b>	«Двигаемся в этом направлении»
<b>JL</b>	«Нужны медикаменты»
<b>LLL</b>	«Нужны пища и вода»

### Теоретические задания

#### Задание 1

Расположите предложенные фрагменты в верной последовательности, чтобы в итоге получилось определение.

для перевозки по	2 +	1
дорогам людей, грузов или	3 +	2
оборудования, установленного на нём	4 +	3
устройство, предназначенное	1 +	4

Запишите термины, определение которому Вы составили.

- устройство, предназначенное для перевозки по дорогам людей, грузов или оборудования, установленного на нём

Укажите, какие сигналы рукой должен подавать велосипедист для обозначения:

- поворот направо;
- торможение.



поворот направо	торможение
-----------------	------------

2, 4

3

12

### Задание 3

Каждому из перечисленных событий подберите соответствующую ему дату.

Наименование профессионального праздника (памятной даты)	Число и месяц, когда это событие празднуется
Всемирный день гражданской обороны	30 апреля
День участников ликвидации последствий радиационных аварий и катастроф и памяти жертв этих аварий и катастроф	27 декабря
День пожарной охраны России	26 апреля
День сотрудника органов внутренних дел Российской Федерации	10 ноября
День создания органов государственного пожарного надзора	1 марта
День Героев Отечества	4 октября
День спасателя Российской Федерации	18 июля
День памяти о россиянах, исполнявших служебный долг за пределами Отечества	15 февраля
День государственной горноспасательной службы	6 июля
День гражданской обороны России	9 декабря

**Задание 4**

Вы увидели, как турист упал с обрыва и ударился животом о камень. Удар пришёлся в левое подреберье. Пострадавший жалуется на боли в животе, слабость, головокружение. При осмотре отмечается бледность кожных покровов, частый слабый пульс.

Расставьте мероприятия первой помощи в очередности их выполнения.

D

3	Выполнить подробный осмотр пострадавшего (выявить болезненность в области живота).
2	Провести обзорный осмотр пострадавшего на наличие наружного кровотечения (убедиться в его отсутствии).
1	Оценить обстановку, убедиться в безопасности оказания первой помощи.
5	Оказать пострадавшему психологическую помощь (разговаривать с пострадавшим до приезда скорой медицинской помощи (СМП)), передать пострадавшего бригаде СМП.
4	Придать пострадавшему оптимальное положение тела, приложить холод к животу (по возможности), вызвать скорую медицинскую помощь.

Максимальная оценка за работу – 100 баллов.



ВСЕРОССИЙСКАЯ ОЛИМПИАДА  
ШКОЛЬНИКОВ ПО ОБЖ. 2023–2024 уч. г.  
ШКОЛЬНЫЙ ЭТАП. 7–8 КЛАССЫ

Тестовые задания

Определите один правильный ответ.

За правильный ответ начисляется 2 балла.

1. Определите смысловое значение изображённого дорожного знака.

- а) велосипедная дорожка  
б) приоритет велосипеда при движении  
в) полоса для велосипедистов  
г) пересечение с велосипедной дорожкой или велопешеходной дорожкой



2. Владелец имеет право оставлять свою собаку привязанной возле магазина на

- а) неограниченное время в наморднике  
б) неограниченное время, на коротком поводке  
в) ограниченное время, на длинном поводке, но в наморднике  
г) ограниченное время, на коротком поводке

3. Определите смысловое значение данного знака на водных объектах г. Москвы.

- а) «В воде проводятся очистительные работы»  
б) «Стой! Опасное дно»  
в) «Входить в воду запрещено!»  
г) «Опасно! Грязная вода»



4. Молния опасна тогда, когда вслед за веньшкой следует

- а) сильный порывистый ветер  
б) раскат грома  
в) ливневый дождь  
г) период затишья в течение не менее 10 секунд

5. Резкое кратковременное усиление ветра до 20–30 м/с и выше, сопровождающееся изменением его направления, связанное с конвективными процессами, – это

- а) вихрь  
б) смерч  
в) циклон  
г) шквал

6. **Отрыв и падение больших масс горных пород на крутых и обрывистых склонах гор, речных долин и морских побережий, происходящих главным образом за счёт ослабления связности горных пород под влиянием процессов выветривания, деятельности поверхностных и подземных вод, является**
- а) оползнем
  - б) карстовой просадкой
  - в) обвалом
  - г) курумом
7. **Кому в первую очередь необходимо сообщить об обнаружении подозрительного предмета в вагоне метро?**
- а) сотруднику МЧС по телефону
  - б) дежурному на станции по переговорному устройству
  - в) сотруднику полиции по телефону
  - г) машинисту поезда по переговорному устройству
8. **Наибольшей энергетической ценностью обладают**
- а) белки
  - б) углеводы
  - в) жиры
  - г) минеральные вещества
9. **При какой травме и (или) состоянии пострадавшему придают оптимальное положение тела, изображённое на рисунке?**
- а) большая кровопотеря, пострадавший в сознании
  - б) большая кровопотеря, пострадавший без сознания
  - в) травма груди, пострадавший в сознании
  - г) травма головы, пострадавший без сознания



5. Какие из перечисленных служб входят в перечень экстренных оперативных служб, вызов которых круглосуточно и бесплатно обязан обеспечить оператор связи пользователю услугами связи?
- а) служба реагирования в чрезвычайных ситуациях  
 б) служба «ГосОтлов»  
 в) служба «Антитеррор»  
 г) служба экстренного реагирования на землетрясение  
 д) служба вневедомственной охраны МВД РФ
6. К опасным геологическим явлениям и процессам относят
- а) переработку берегов  
 б) просадку в лессовых грунтах  
 в) сель  
 г) торфяной пожар  
 д) пыльную бурю
7. Сообщения какой тематики принимает Главное управление по противодействию экстремизму МВД России?
- а) о скулушутинге  
 б) о распространении информации, наносящей вред здоровью и развитию детей  
 в) об актах суицида  
 г) об интернет-мошенничестве  
 д) о пропаганде социальной, расовой, национальной или религиозной розни
8. Выберите периоды максимальной работоспособности в течение суток.
- а) 6:00–8:00  
 б) 9:00–12:00  
 в) 12:00–15:00  
 г) 16:00–18:00  
 д) 19:00–21:00
9. При каких состояниях оказывается первая помощь?
- а) отсутствие сознания  
 б) повышение температуры тела до 39 °С  
 в) повышение артериального давления  
 г) отравление  
 д) аллергическая реакция на коже в виде характерной сыпи (крапивница)
10. Какие мероприятия по поддержанию проходимости дыхательных путей применяются при оказании первой помощи?
- а) придание устойчивого бокового положения  
 б) использование S-образного воздуховода  
 в) интубация трахеи  
 г) использование медицинской лицевой маски с обратным клапаном  
 д) запрокидывание головы с подъёмом подбородка



Определите два правильных ответа.

За каждый правильный ответ начисляется 2 балла.

1. Определите смысловое значение и область применения данного знака безопасности на объектах инфраструктуры ОАО «РЖД».

а) устанавливается на территории платформ железнодорожных станций и вокзалов, у переходов и переездов через железнодорожные пути

б) «Берегись поезда!»

в) устанавливается в местах прохода граждан через железнодорожные пути

г) «Движение скоростных поездов»

д) «Переходить через железнодорожные пути опасно»



2. Определите смысловое значение и группу данного знака безопасности.

а) предупреждающий знак

б) «Ядовитые вещества»

в) предписывающий знак

г) «Запрещается брать руками»

д) «Опасно, Едкие и коррозионные вещества»



3. Какие узлы рекомендуется использовать для закрепления веревок к опоре?

а) булинь

б) грейпвайн

в) «двойной проводник»

г) прусик

д) «штык»

4. Выберите параметры природной ЧС локального характера,

территория которой не выходит за пределы территории объекта.

а) количество людей, погибших и (или) получивших ущерб здоровью, составляет не более 50 человек

б) размер ущерба окружающей природной среде и материальных потерь составляет не более 240 тыс. рублей

в) размер материального ущерба составляет не более 12 млн рублей

г) количество людей, погибших и (или) получивших ущерб здоровью, составляет не более 10 человек

д) количество людей, погибших и (или) получивших ущерб здоровью, составляет свыше 50 человек, но не более 500 человек



Теоретические задания

10

Задание 1

Расположите предложенные фрагменты в верной последовательности, чтобы в итоге получилось определение.

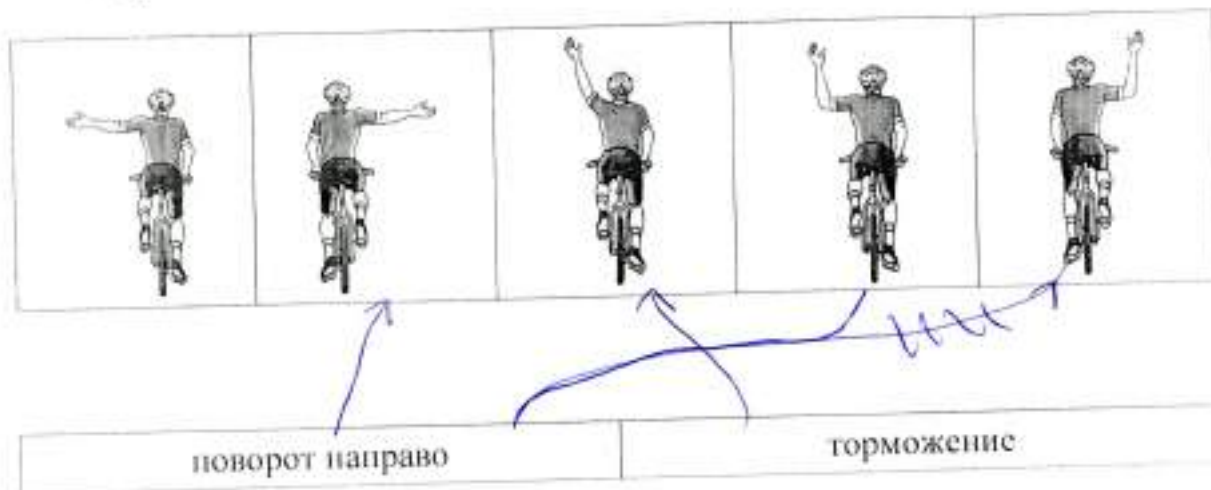


Запишите термин, определение которому Вы составили.

*транспортное средство*

Укажите, какие сигналы рукой должен подать велосипедист для обозначения:

- поворот направо;
- торможение.



120

### Задание 2

Сопоставьте изображения визуальных сигналов, передаваемых потерпевшими бедствие экипажам поисково-спасательных самолётов (вертолётов), с их значениями.

Изображения визуальных сигналов	Значения визуальных сигналов
<b>F</b>	«Операции закончены»
<b>X</b>	«Требуется медицинская помощь»
<b>  </b>	«Требуется карта и компас»
<b>□</b>	«Не понял»
<b>↑</b>	«Всё в порядке»
<b>H</b>	«Судно серьёзно повреждено»
<b>L</b>	«Требуется топливо и масло»
<b>LL</b>	«Двигаемся в этом направлении»
<b>JL</b>	«Нужны медикаменты»
<b>LLL</b>	«Нужны пища и вода»



### Задание 3

Каждому из перечисленных событий подберите соответствующую ему дату.

Наименование профессионального праздника (памятной даты)	Число и месяц, когда это событие празднуется
Всемирный день гражданской обороны	30 апреля
День участников ликвидации последствий радиационных аварий и катастроф и памяти жертв этих аварий и катастроф	27 декабря
День пожарной охраны России	26 апреля
День сотрудника органов внутренних дел Российской Федерации	10 ноября
День создания органов государственного пожарного надзора	1 марта
День Героев Отечества	4 октября
День спасателя Российской Федерации	18 июля
День памяти о россиянах, исполнявших служебный долг за пределами Отечества	15 февраля
День государственной горноспасательной службы	6 июля
День гражданской обороны России	9 декабря

65

**Задание 4**

Вы увидели, как турист упал с обрыва и ударился животом о камень. Удар пришёлся в левое подреберье. Пострадавший жалуется на боли в животе, слабость, головокружение. При осмотре отмечается бледность кожных покровов, частый слабый пульс.

Расставьте мероприятия первой помощи в очередности их выполнения.

4	Выполнить подробный осмотр пострадавшего (выявить болезненность в области живота).
2	Провести обзорный осмотр пострадавшего на наличие наружного кровотечения (убедиться в его отсутствии).
1	Оценить обстановку, убедиться в безопасности оказания первой помощи.
5	Оказать пострадавшему психологическую помощь (разговаривать с пострадавшим до приезда скорой медицинской помощи (СМП)), передать пострадавшего бригаде СМП.
3	Придать пострадавшему оптимальное положение тела, приложить холод к животу (по возможности), вызвать скорую медицинскую помощь.

**Максимальная оценка за работу – 100 баллов.**



ВСЕРОССИЙСКАЯ ОЛИМПИАДА  
ШКОЛЬНИКОВ ПО ОБЖ. 2023–2024 уч. г.  
ШКОЛЬНЫЙ ЭТАП. 9 КЛАСС

69

20

Тестовые задания

Определите один правильный ответ.

За правильный ответ начисляется 2 балла.

1. О чём предупреждает изображённый дорожный знак?

- а) о неровной дороге  
 б) об опасном повороте  
 в) об обрывистой обочине  
 г) о кругом подъёме



2. Как нужно держать собаку при входе и выходе из кабины лифта?

- а) за ловец  
 б) за ошейник  
 в) за антабку  
 г) за поводок

3. Определите смысловое значение данного знака на водных объектах г. Москвы.

- а) «Входить в воду запрещено»  
 б) «Опасно! Слив горячей воды»  
 в) «Стой! Опасное дно»  
 г) «Опасно! Грязная вода»



4. ЧС, в результате которой зона ЧС затрагивает территорию двух и более субъектов РФ, при этом количество людей, погибших и (или) получивших ущерб здоровью, составляет свыше 50 человек, но не более 500 человек, либо размер материального ущерба составляет свыше 12 млн рублей, но не более 1,2 млрд рублей, носит

- а) региональный характер  
 б) межмуниципальный характер  
 в) муниципальный характер  
 г) межрегиональный характер

5. **Международный термин «бедствие» может быть использован на взаимозаменяемой основе с национальным термином РФ**
- а) «чрезвычайная ситуация»
  - б) «катастрофа»
  - в) «авария»
  - г) «стихийное бедствие»
6. **Скопление льдин в русле реки во время ледохода, вызывающее стеснение водного сечения и связанный с этим подъем уровня воды является**
- а) зажором
  - б) шугой
  - в) курумом
  - г) затором
7. **Оказавшись в толпе, главной задачей является**
- а) не потерять личные вещи
  - б) защитить грудную клетку
  - в) не упасть
  - г) защитить голову
8. **Какие неинфекционные заболевания находятся на первом месте по причине смертности в нашей стране и мире?**
- а) онкологические заболевания
  - б) сахарный диабет
  - в) заболевания органов дыхания
  - г) сердечно-сосудистые заболевания
9. **У пострадавшего ожог на плече, площадь которого составляет примерно три его ладони. Какой процент от общей поверхности тела человека составляет ожог у данного пострадавшего?**
- а) 1%
  - б) 3%
  - в) 9%
  - г) 18%
10. **Максимальное время повторного наложения жгута составляет**
- а) 15 минут
  - б) 30 минут
  - в) 60 минут
  - г) 120 минут

6. К опасным метеорологическим явлениям и процессам относят

- а) шторм  
 б) сель  
 в) штормовой нагон  
 г) циклон  
 д) цунами

7. Сообщения какой тематики принимает управление «К» МВД России?

- а) о скушутинге  
 б) о распространении информации, наносящей вред здоровью и развитию детей  
 в) об актах суицида  
 г) об интернет-мошенничестве  
 д) о пропаганде социальной, расовой, национальной или религиозной розни

8. Какие заболевания относят к трансмиссивным?

- а) гепатит А  
 б) малярия  
 в) грипп  
 г) краснуха  
 д) чума

9. Прохожий поскользнулся во время гололёда и упал с упором на вытянутую руку. В нижней трети предплечья появилась резкая боль, отёк. Какие суставы необходимо зафиксировать, чтобы выполнить надёжную иммобилизацию пострадавшей конечности?

- а) плечевой сустав неповреждённой руки  
 б) плечевой сустав повреждённой руки  
 в) локтевой сустав повреждённой руки  
 г) лучезапястный сустав повреждённой руки  
 д) межфаланговые суставы повреждённой руки

10. На какие анатомические части верхней конечности рекомендуется накладывать кровоостанавливающий жгут?

- а) на верхнюю треть плеча  
 б) на среднюю треть плеча  
 в) на нижнюю треть плеча  
 г) на среднюю треть предплечья  
 д) на нижнюю треть предплечья



16

Определите два правильных ответа.

За каждый правильный ответ начисляется 2 балла.

1. Определите смысловое значение и область применения данного знака безопасности на объектах инфраструктуры ОАО «РЖД».

- а) «Прыгать с платформы запрещено!»  
 б) «Стоять у края платформы не допускается!»  
 в) «Осторожно. Возможность падения с платформы»  
 г) устанавливается на вокзале  
 д) устанавливается на платформе



2. Определите смысловое значение и область применения КРАСНОГО сигнального цвета в знаках безопасности.

- а) требование обязательных действий в целях обеспечения безопасности  
 б) непосредственная опасность  
 в) предупреждение, предостережение о возможной опасности  
 г) возможная опасность  
 д) запрещение опасного поведения или действия

3. Определите, какой костёр оптимально использовать только для почёвки и узел, используемый для крепления к опоре.

- а) баррел  
 б) «пирамида»  
 в) «встречный»  
 г) «решётка»  
 д) «австрийский проводник»

4. Выберите характерные признаки приближающейся грозы.

- а) резкое увеличение атмосферного давления и температуры воздуха  
 б) ухудшение слышимости далёких звуков  
 в) резкое увеличение порывов ветра  
 г) появление изнурительной духоты  
 д) резкое понижение атмосферного давления и температуры воздуха

5. Что может являться источником природно-техногенной ЧС?




- а) транспортная авария  
 б) землетрясение  
 в) катастрофа  
 г) наводнение  
 д) эпифитотия



8

### Задание 2

Сопоставьте изображения визуальных сигналов, передаваемых потерпевшими бедствие экипажам поисково-спасательных самолётов (вертолётов), с их значениями.

Изображения визуальных сигналов	Значения визуальных сигналов
	«Произошло лётное происшествие, имеются пострадавшие»
	«Разделились на две группы, каждая следует в указанном направлении»
	«Мы нашли всех людей»
	«Отрицательно»
	«Требуется медицинская помощь»
	«Требуется карта и компас»
	«Мы не в состоянии продолжать поиск, возвращаемся на базу»
	«Здесь садиться нельзя»
	«Нужны оружие и боеприпасы»
	«Сбросьте сообщение»

10

### Теоретические задания

#### Задание 1

Расположите предложенные фрагменты в верной последовательности, чтобы в итоге получилось определение.

конструктивная скорость которого не превышает 50 км/ч, имеющее	2	1
в режиме длительной нагрузки более 0,25 кВт и менее 4 кВт	5	2
двух- или трёхколёсное механическое транспортное средство, максимальная	1	3
или электродвигатель номинальной максимальной мощностью	4	4
двигателя внутреннего сгорания с рабочим объёмом, не превышающим 50 куб. см	3	5

Запишите термин, определение которому Вы составили.

*Мопед*

Укажите категорию и возраст, с которого предоставляется право управления транспортным средством, определению которому Вы составили. Категорию укажите заглавной латинской буквой, возраст – числом.

Категория – *M*

Возраст – *16*

10

### Задание 4

Для распространения инфекционных заболеваний обязательным условием является наличие трёх звеньев – источника инфекции, механизмов (путей) передачи инфекции и восприимчивого организма. Для того, чтобы предупредить распространение инфекции, проводятся противоэпидемические мероприятия, направленные на каждое звено эпидемического процесса.

Определите, на какое звено эпидемического процесса направлено каждое из перечисленных противоэпидемических мероприятий.

Противоэпидемические мероприятия	Звенья эпидемического процесса
Вакцинация	Источник инфекции
Применение бактерицидных ультрафиолетовых ламп	Механизм передачи инфекции
Уборка помещений с применением дезинфицирующих средств	Восприимчивый организм
Выявление больных, их лечение и изоляция	
Применение иммуноглобулинов, иммунных сывороток	






Максимальная оценка за работу – 100 баллов.

0

### Задание 3

Сопоставьте изображения авиационной техники МЧС России с их наименованиями.

- Ан-148
- Бк-117
- Ми-26Т
- Бе-200ЧС
- SuperJet 100-95LR

Изображения авиационной техники МЧС России	Наименования авиационной техники МЧС России
	Бе-200 ЧС
	Бк 117
	Ми-26Т
	Ан 148
	SuperJet 100-95LR



Общ 207

ВСЕРОССИЙСКАЯ ОЛИМПИАДА  
ШКОЛЬНИКОВ ПО ОБЖ. 2023–2024 уч. г.  
ШКОЛЬНЫЙ ЭТАП. 9 КЛАСС

Тестовые задания

66

Определите один правильный ответ.

За правильный ответ начисляется 2 балла.

1. О чём предупреждает изображённый дорожный знак?

- а) о ровной дороге  
б) об опасном повороте  
в) об обрывистой обочине  
г) о крутом подъёме



2. Как нужно держать собаку при входе и выходе из кабины лифта?

- а) за ошейник  
б) за ошейник  
в) за антабку  
г) за поводок

3. Определите смысловое значение данного знака на водных объектах г. Москвы.

- а) «Входить в воду запрещено»  
б) «Опасно! Слив горячей воды»  
в) «Стой! Опасное дно»  
г) «Опасно! Грязная вода»



4. ЧС, в результате которой зона ЧС затрагивает территорию двух и более субъектов РФ, при этом количество людей, погибших и (или) получивших ущерб здоровью, составляет свыше 50 человек, но не более 500 человек, либо размер материального ущерба составляет свыше 12 млн рублей, но не более 1,2 млрд рублей, носит

- а) региональный характер  
б) межмуниципальный характер  
в) муниципальный характер  
г) межрегиональный характер

5. **Международный термин «бедствие» может быть использован на взаимозаменяемой основе с национальным термином РФ**  
а) «чрезвычайная ситуация»  
б) «катастрофа»  
в) «авария»  
г) «стихийное бедствие»
6. **Скопление льдин в русле реки во время ледохода, вызывающее стеснение водного сечения и связанный с этим подъем уровня воды является**  
а) зажором  
б) шугой  
в) курумом  
г) затором
7. **Оказавшись в толпе, главной задачей является**  
а) не потерять личные вещи  
б) защитить грудную клетку  
в) не упасть  
г) защитить голову
8. **Какие неинфекционные заболевания находятся на первом месте по причине смертности в нашей стране и мире?**  
а) онкологические заболевания  
б) сахарный диабет  
в) заболевания органов дыхания  
г) сердечно-сосудистые заболевания
9. **У пострадавшего ожог на плече, площадь которого составляет примерно три его ладони. Какой процент от общей поверхности тела человека составляет ожог у данного пострадавшего?**  
а) 1%  
б) 3%  
в) 9%  
г) 18%
10. **Максимальное время повторного наложения жгута составляет**  
а) 15 минут  
б) 30 минут  
в) 60 минут  
г) 120 минут

20

Определите два правильных ответа.

За каждый правильный ответ начисляется 2 балла.

1. Определите смысловое значение и область применения данного знака безопасности на объектах инфраструктуры ОАО «РЖД».

- а) «Прыгать с платформы запрещено!»
- б) «Стоять у края платформы не допускается!»
- в) «Осторожно. Возможность падения с платформы»
- г) устанавливается на вокзале
- д) устанавливается на платформе



2. Определите смысловое значение и область применения КРАСНОГО сигнального цвета в знаках безопасности.

- а) требование обязательных действий в целях обеспечения безопасности
- б) непосредственная опасность
- в) предупреждение, предостережение о возможной опасности
- г) возможная опасность
- д) запрещение опасного поведения или действия

3. Определите, какой коэтер оптимально использовать только для почёвки и узел, используемый для крепления к опоре.

- а) барел
- б) «пирамида»
- в) «встречный»
- г) «решётка»
- д) «австрийский проводник»

4. Выберите характерные признаки приближающейся грозы.

- а) резкое увеличение атмосферного давления и температуры воздуха
- б) ухудшение слышимости далёких звуков
- в) резкое увеличение порывов ветра
- г) появление изнурительной духоты
- д) резкое понижение атмосферного давления и температуры воздуха

5. Что может являться источником природно-техногенной ЧС?

- а) транспортная авария
- б) землетрясение
- в) катастрофа
- г) наводнение
- д) энцефалит



6. К опасным метеорологическим явлениям и процессам относят
- а) шторм
  - б) сель
  - +  в) штормовой нагон
  - г) циклон
  - д) цунами
7. Сообщения какой тематики принимает управление «К» МВД России?
- а) о скулуштинге
  - +  б) о распространении информации, наносящей вред здоровью и развитию детей
  - в) об актах суицида
  - г) об интернет-мошенничестве
  - д) о пропаганде социальной, расовой, национальной или религиозной розни
8. Какие заболевания относят к трансмиссивным?
- а) гепатит А
  - б) малярия
  - в) грипп
  - +  г) краснуха
  - д) чума
9. Прохожий поскользнулся во время гололёда и упал с упором на вытянутую руку. В нижней трети предплечья появилась резкая боль, отёк. Какие суставы необходимо зафиксировать, чтобы выполнить надёжную иммобилизацию пострадавшей конечности?
- а) плечевой сустав неповреждённой руки
  - б) плечевой сустав повреждённой руки
  - +  в) локтевой сустав повреждённой руки
  - г) лучезапястный сустав повреждённой руки
  - д) межфаланговые суставы повреждённой руки
10. На какие анатомические части верхней конечности рекомендуется накладывать кровоостанавливающий жгут?
- а) на верхнюю треть плеча
  - б) на среднюю треть плеча
  - +  в) на нижнюю треть плеча
  - г) на среднюю треть предплечья
  - д) на нижнюю треть предплечья



Теоретические задания

10

Задание 1

Расположите предложенные фрагменты в верной последовательности, чтобы в итоге получилось определение.

конструктивная скорость которого не превышает 50 км/ч, имеющее		1
в режиме длительной нагрузки более 0,25 кВт и менее 4 кВт		2
двух- или трёхколёсное механическое транспортное средство, максимальная		3
или электродвигатель номинальной максимальной мощностью		4
двигатель внутреннего сгорания с рабочим объёмом, не превышающим 50 куб. см		5

Запишите термин, определение которому Вы составили.

мотоцикл +

Укажите категорию и возраст, с которого предоставляется право управления транспортным средством, определению которому Вы составили. Категорию укажите заглавной латинской буквой, возраст – числом.











Категория – М

Возраст – 19 +

4

### Задание 2

Сопоставьте изображения визуальных сигналов, передаваемых потерпевшими бедствие экипажам поисково-спасательных самолётов (вертолётов), с их значениями.






Изображения визуальных сигналов	Значения визуальных сигналов
	«Произошло лётное происшествие, имеются пострадавшие»
	«Разделились на две группы, каждая следует в указанном направлении»
	«Мы нашли всех людей»
	«Отрицательно»
	«Требуется медицинская помощь»
	«Требуется карта и компас»
	«Мы не в состоянии продолжать поиск, возвращаемся на базу»
	«Здесь садиться нельзя»
	«Нужны оружие и боеприпасы»
	«Сбросьте сообщение»

6

Задание 3

Сопоставьте изображения авиационной техники МЧС России с их наименованиями.

- Ан-148
- Бк-117
- Ми-26Т
- Бе-200ЧС
- SuperJet100-95LR

Изображения авиационной техники МЧС России	Наименования авиационной техники МЧС России
	<p>Бе-200ЧС</p>
	<p>Ан-148 +</p>
	<p>Бк 117 +</p>
	<p>Ми 26Т +</p>
	<p>SuperJet-100-95LR</p>

10

### Задание 4

Для распространения инфекционных заболеваний обязательным условием является наличие трёх звеньев – источника инфекции, механизмов (путей) передачи инфекции и восприимчивого организма. Для того, чтобы предупредить распространение инфекции, проводятся противоэпидемические мероприятия, направленные на каждое звено эпидемического процесса.

Определите, на какое звено эпидемического процесса направлено каждое из перечисленных противоэпидемических мероприятий.

Противоэпидемические мероприятия	Звенья эпидемического процесса
Вакцинация	Источник инфекции
Применение бактерицидных ультрафиолетовых ламп	
Уборка помещений с применением дезинфицирующих средств	Механизм передачи инфекции
Выявление больных, их лечение и изоляция	
Применение иммуноглобулинов, иммунных сывороток	Восприимчивый организм

Максимальная оценка за работу – 100 баллов.



16

ВСЕРОССИЙСКАЯ ОЛИМПИАДА  
ШКОЛЬНИКОВ ПО ОБЖ. 2023–2024 уч. г.  
ШКОЛЬНЫЙ ЭТАП. 9 КЛАСС

52

Тестовые задания

Определите один правильный ответ.

За правильный ответ начисляется 2 балла.

1. О чём предупреждает изображённый дорожный знак?

- а) о неровной дороге  
 б) об опасном повороте  
 в) об обрывистой обочине  
 г) о крутом подъёме



2. Как нужно держать собаку при входе и выходе из кабины лифта?

- а) за ловец  
 б) за ошейник  
 в) за антабку  
 г) за поводок

3. Определите смысловое значение данного знака на водных объектах г. Москвы.

- а) «Входить в воду запрещено»  
 б) «Опасно! Слив горячей воды»  
 в) «Стой! Опасное дно»  
 г) «Опасно! Грязная вода»



4. ЧС, в результате которой зона ЧС затрагивает территорию двух и более субъектов РФ, при этом количество людей, погибших и (или) получивших ущерб здоровью, составляет свыше 50 человек, но не более 500 человек, либо размер материального ущерба составляет свыше 12 млн рублей, но не более 1,2 млрд рублей, имеет

- а) региональный характер  
 б) межмуниципальный характер  
 в) муниципальный характер  
 г) межрегиональный характер

5. **Международный термин «бедствие» может быть использован на взаимозаменяемой основе с национальным термином РФ**
- а) «чрезвычайная ситуация»
  - б) «катастрофа»
  - + в) «авария»
  - г) «стихийное бедствие»
6. **Скопление льдин в русле реки во время ледохода, вызывающее стеснение водного сечения и связанный с этим подъём уровня воды является**
- а) зажором
  - + б) шугой
  - в) курумом
  - г) затором
7. **Оказавшись в толпе, главной задачей является**
- + а) не потерять личные вещи
  - б) защитить грудную клетку
  - в) не упасть
  - г) защитить голову
8. **Какие неинфекционные заболевания находятся на первом месте по причине смертности в нашей стране и мире?**
- а) онкологические заболевания
  - б) сахарный диабет
  - в) заболевания органов дыхания
  - г) сердечно-сосудистые заболевания
9. **У пострадавшего ожог на плече, площадь которого составляет примерно три его ладони. Какой процент от общей поверхности тела человека составляет ожог у данного пострадавшего?**
- + а) 1%
  - б) 3%
  - в) 9%
  - г) 18%
10. **Максимальное время повторного наложения жгута составляет**
- +  а) 15 минут
  - б) 30 минут
  - в) 60 минут
  - г) 120 минут

10

Определите два правильных ответа.

За каждый правильный ответ начисляется 2 балла.

1. Определите смысловое значение и область применения данного знака безопасности на объектах инфраструктуры ОАО «РЖД».

- а) «Прыгать с платформы запрещено!»  
 б) «Стоять у края платформы не допускается!»  
 в) «Осторожно. Возможность падения с платформы»  
 г) устанавливается на вокзале  
 д) устанавливается на платформе



2. Определите смысловое значение и область применения КРАСНОГО сигнального цвета в знаках безопасности.

- а) требование обязательных действий в целях обеспечения безопасности  
 б) неопредетленная опасность  
 в) предупреждение, предостережение о возможной опасности  
 г) возможная опасность  
 д) запрещение опасного поведения или действия

3. Определите, какой костёр оптимально использовать только для ночёвки и узел, используемый для крепления к опоре.

- а) баррел  
 б) «пирамида»  
 в) «встречный»  
 г) «решётка»  
 д) «австрийский проводник»

4. Выберите характерные признаки приближающейся грозы.

- а) резкое увеличение атмосферного давления и температуры воздуха  
 б) ухудшение слышимости далёких звуков  
 в) резкое увеличение порывов ветра  
 г) появление изнурительной духоты  
 д) резкое понижение атмосферного давления и температуры воздуха

5. Что может являться источником природно-техногенной ЧС?

- а) транспортная авария  
 б) землетрясение  
 в) катастрофа  
 г) наводнение  
 д) энцефалит



6. К опасным метеорологическим явлениям и процессам относят

а) шторм

б) сель

в) штормовой нагон

г) циклон

д) цунами

7. Сообщения какой тематики принимает управление «К» МВД России?

а) о скудшутинге

б) о распространении информации, наносящей вред здоровью и развитию детей

в) об актах суицида

г) об интернет-мошенничестве

д) о пропаганде социальной, расовой, национальной или религиозной розни

8. Какие заболевания относят к трансмиссивным?

а) гепатит А

б) малярия

в) грипп

г) краснуха

д) чума

9. Прохожий поскользнулся во время гололёда и упал с упором на вытянутую руку. В нижней трети предплечья появилась резкая боль, отёк. Какие суставы необходимо зафиксировать, чтобы выполнить надёжную иммобилизацию пострадавшей конечности?

а) плечевой сустав неповреждённой руки

б) плечевой сустав повреждённой руки

в) локтевой сустав повреждённой руки

г) лучезапястный сустав повреждённой руки

д) межфаланговые суставы повреждённой руки

10. На какие анатомические части верхней конечности рекомендуется накладывать кровоостанавливающий жгут?

а) на верхнюю треть плеча

б) на среднюю треть плеча

в) на нижнюю треть плеча

г) на среднюю треть предплечья

д) на нижнюю треть предплечья



### Теоретические задания

6

#### Задание 1

Расположите предложенные фрагменты в верной последовательности, чтобы в итоге получилось определение.

конструктивная скорость которого не превышает 50 км/ч, имеющее	4	1
в режиме длительной нагрузки более 0,25 кВт и менее 4 кВт	2	2
двух- или трёхколёсное механическое транспортное средство, максимальная	3	3
или электродвигатель номинальной максимальной мощностью	5	4
двигатель внутреннего сгорания с рабочим объёмом, не превышающим 50 куб. см	1	5

Запишите термин, определение которому Вы составили.

+ МОПЕД

Укажите категорию и возраст, с которого предоставляется право управления транспортным средством, определение которому Вы составили. Категорию укажите заглавной латинской буквой, возраст – числом.











Категория – М

Возраст – 16 +

4

## Задание 2

Сопоставьте изображения визуальных сигналов, передаваемых потерпевшими бедствие экипажам поисково-спасательных самолётов (вертолётов), с их значениями.

	Изображения визуальных сигналов	Значения визуальных сигналов	
1		«Произошло лётное происшествие, имеются пострадавшие»	6
2		«Разделились на две группы, каждая следует в указанном направлении»	11
3		«Мы нашли всех людей»	3
4		«Отрицательно»	5
5		«Требуется медицинская помощь»	2
6		«Требуется карта и компас»	7
7		«Мы не в состоянии продолжать поиск, возвращаемся на базу»	1
8		«Здесь садиться нельзя»	9
9		«Нужны оружие и боеприпасы»	10
10		«Сбросьте сообщение»	8

6

**Задание 4**

Для распространения инфекционных заболеваний обязательным условием является наличие трёх звеньев – источника инфекции, механизмов (путей) передачи инфекции и восприимчивого организма. Для того, чтобы предупредить распространение инфекции, проводятся противоэпидемические мероприятия, направленные на каждое звено эпидемического процесса.

Определите, на какое звено эпидемического процесса направлено каждое из перечисленных противоэпидемических мероприятий.








Максимальная оценка за работу – 100 баллов.

10

### Задание 3

Сопоставьте изображения авиационной техники МЧС России с их наименованиями.

- 1  Ан-148
- 2  Бк-117
- 3  Ми-26Т
- 4  Бе-200ЧС
- 5  SuperJet100-95LR

Изображения авиационной техники МЧС России	Наименования авиационной техники МЧС России
	Super Jet 100 - 95LR
	4 Ан - 148
	8 БК - 117
	8 Ми - 26Т
	8 БЕ 200ЧС



ВСЕРОССИЙСКАЯ ОЛИМПИАДА  
ШКОЛЬНИКОВ ПО ОБЖ. 2023–2024 уч. г.  
ШКОЛЬНЫЙ ЭТАП. 10–11 КЛАССЫ

74

Тестовые задания

Определите один правильный ответ.

За правильный ответ начисляется 2 балла.

1. О чём предупреждает изображённый дорожный знак?

- а) о скользкой дороге  
 б) о неровной дороге  
 в) об извилистой дороге  
 г) об искусственной неровности



2. Определите смысловое значение данного знака на водных объектах г. Москвы.

- а) «Кататься на воде запрещено»  
 б) «Плывать на подручных средствах запрещено»  
 в) «При плавании на подручных средствах приближаться друг к другу запрещено»  
 г) «Буксируемые аттракционы на воде запрещены»



3. Чему приблизительно равно расстояние до грозового фронта, если после вспышки молнии до грома прошло 7 с?


- а) 1780 м  
 б) 3330 м  
 в) 4230 м  
 г) 2380 м

4. Тайфун – местное название тропических ..., возникающих в районе Южно-Китайского моря, Филиппинских островов, в редких случаях доходящих до Приморского края Российской Федерации.

- а) ураганов  
 б) циклонов  
 в) штормов  
 г) смерчей

5. Что нельзя делать ни в коем случае, если на улице к вам подошли люди и спрашивают, как найти улицу (дом)?

- а) объяснять дорогу  
 б) провожать их  
 в) рисовать схему  
 г) вступать в разговор

6. **Какое воинское звание имеет действующий министр обороны РФ?**  
а) генерал-лейтенант  
+ б) генерал армии  
+ в) Маршал РФ  
г) генерал-полковник
7. **С какого возраста граждане мужского пола получают подготовку по военно-учётным специальностям солдат, матросов, сержантов и старшин в общественных объединениях, общественно-государственных организациях и профессиональных образовательных организациях?**  
а) с 15 лет  
+ б) с 18 лет  
в) с 16 лет  
г) с 17 лет
8. **На изображении представлен**  
+ а) ПМ  
б) ПММ  
+ в) ПСМ  
г) ПСК
- 
9. **Выберите метод специфической профилактики инфекционных заболеваний.**  
а) закаливание  
б) приём витаминов  
+ в) применение профилактических прививок  
г) занятия физической культурой
10. **До какого возраста пострадавшего запрещено выполнять надавливание на живот (приём Геймлиха) при попадании инородного тела в верхние дыхательные пути?**  
+ а) до 1 года  
б) до 3 лет  
в) до 7 лет  
г) до 14 лет

**Определите два правильных ответа.**

За каждый правильный ответ начисляется 2 балла.

1. **Определите смысловое значение и область применения данного знака безопасности на объектах инфраструктуры ОАО «РЖД».**

- а) «Доступ посторонним запрещён!»  
 б) «Стой, опасно для жизни!»  
 в) «Проход запрещён!»  
 г) устанавливается в непосредственной близости от мест возможных действий  
 д) устанавливается на платформе



2. **Определите смысловое значение и область применения СИНЕГО сигнального цвета в знаках безопасности.**

- а) указание  
 б) разрешение определенных действий  
 в) помощь, спасение  
 г) сообщение о нормальной работе оборудования, нормальном состоянии технологического процесса  
 д) предупреждение, предостережение о возможной опасности

3. **Выберите параметры техногенной чрезвычайной ситуации регионального характера.**

- а) зона чрезвычайной ситуации затрагивает территорию двух и более муниципальных районов, муниципальных округов, городских округов, расположенных на территории одного субъекта Российской Федерации  
 б) количество людей, погибших и (или) получивших ущерб здоровью, составляет свыше 500 человек либо размер материального ущерба составляет свыше 1,2 млрд рублей  
 в) количество людей, погибших и (или) получивших ущерб здоровью, составляет свыше 50 человек, но не более 500 человек, либо размер материального ущерба составляет свыше 12 млн рублей, но не более 1,2 млрд рублей  
 г) количество людей, погибших и (или) получивших ущерб здоровью, составляет не более 50 человек, либо размер материального ущерба составляет не более 12 млн рублей  
 д) зона чрезвычайной ситуации не выходит за пределы территории одного субъекта Российской Федерации



4. Что может являться источником биолого-социальной ЧС?
- а) железнодорожная авария
  - б) катастрофа
  - в) эпидемия
  - г) цунами
  - д) пандемия
5. Сообщения какой тематики принимает Главное управление уголовного розыска МВД России?
- а) о распространении информации, наносящей вред здоровью и развитию детей
  - б) о незаконном обороте оружия
  - в) об интернет-мошенничестве
  - г) о пропаганде социальной, расовой, национальной или религиозной розни
  - д) о скалдутинге
6. Выберите отдельные рода войск ВС РФ.
- а) РВСН
  - б) ПВО
  - в) ВМФ
  - г) РХБЗ
  - д) ВДВ
7. Для гражданина Российской Федерации защита Отечества является
- а) правом
  - б) предназначением
  - в) обязательством
  - г) долгом
  - д) обязанностью
8. Автомат Калашникова калибра 5,56 мм АК-19 был разработан на базе автомата ~~А.~~ калибра ~~Б.~~ и является индивидуальным стрелковым оружием.
- а) 5,45 мм
  - б) 7,62 мм
  - в) АК-12
  - г) АКМ
  - д) АК-15
9. Недостаток йода в организме человека может приводить к
- а) «куриной слепоте»
  - б) повышенной кровоточивости
  - в) нарушению синтеза тироксина
  - г) нарушению синтеза инсулина
  - д) снижению интеллекта в раннем детском возрасте



## Задание 2

Сопоставьте изображения авиационной техники воздушно-космических сил Российской Федерации с их наименованиями.

- Ту-160
- Бе-200
- Ту-95МС
- Ту-22М3
- Су-30МК
- МиГ-35
- Як-130
- Су-57

10

	Ту-160 +
	Су-30МК +
	Ту-95 МС +
	Су-57 +
	МиГ-35 +

12

10. При каких травмах и (или) состояниях пострадавшему придают оптимальное положение тела, изображённое на рисунке?

- а) травма позвоночника  
 б) затруднение дыхания (одышка)  
 в)  травма таза  
 г) большая кровопотеря (травматический шок)  
 д)  травма живота



f

### Теоретические задания

#### Задание 1

Расположите предложенные фрагменты в верной последовательности, чтобы в итоге получилось определение.

или без него, рабочий объём	2 +	1
превышает 50 куб. см или максимальная конструктивная	4 +	2
двигателя которого (в случае двигателя внутреннего сгорания)	3 +	3
скорость (при любом двигателе) превышает 50 км/ч	5 +	4
двухколёсное механическое транспортное средство с боковым прицепом	1 +	5

Запишите термин, определение которому Вы составили.

Мотоцикл +

Укажите категорию и возраст, с которого предоставляется право управления транспортным средством, определение которому Вы составили. Категорию укажите заглавной латинской буквой, возраст – числом.

Категория – ~~X~~ ~~A~~ A +

Возраст – ~~X~~ 18 +

10


### Задание 3

Определите эмблемы и даты профессиональных праздников, соответствующие видам и родам войск.

Даты профессиональных праздников:

- последнее воскресенье июля
- 1 августа
- 1 октября
- 17 декабря
- 2 августа
- 2 февраля
- 27 января
- 1 марта
- 3 сентября

Эмблемы:



Виды/ рода войск	Даты профессиональных праздников	Эмблемы
Сухопутные войска	1 октября +	5 +
Воздушно-космические силы	1 августа +	2 +
Военно-морской флот	последнее воскресенье +	3 +
Ракетные войска стратегического назначения	17 декабря ↓	1 +
Воздушно-десантные войска	2 августа ↓	4 +

4

**Задание 4**

Установите соответствие между типом повязки и её характеристикой (описанием).

Тип повязки	Характеристика повязки
1 Ползучая	1 Накладывается в области локтевого или коленного суставов. Существует в двух вариантах: расходящаяся (повязка начинается в области сустава и чередуется турами бинта, которые накладываются выше и ниже сустава) и сходящаяся (повязка начинается с наложения двух круговых туров выше и ниже сустава, далее осуществляется бинтование по сходящемуся типу)
2 Циркулярная	2 Применяется в двух вариантах. Первый – без перегибов накладывается на цилиндрические части тела (плечо, бедро), второй – с перегибами накладывается на конусообразные части тела (голень, предплечье). Каждый последующий тур бинта перекрывает предыдущий на половину или две трети его ширины
3 Черепашья	3 Применяется для фиксации большого по протяжённости перевязочного материала на верхних или нижних конечностях. Между отдельными турами остаётся свободное пространство, равное примерно ширине бинта
4 Працевидная	4 Представляет собой разрезанную с двух сторон полосу марли (бинта) или любой мягкой материи
5 Спиральная	5 Является началом любой мягкой бинтовой повязки и может быть самостоятельной при бинтовании в области лучезапястного сустава, плеча, головы на небольших по протяжённости участках повреждения

1-1                      4-2  
2-3                      5-5  
3-4

Максимальная оценка за работу – 100 баллов.



ВСЕРОССИЙСКАЯ ОЛИМПИАДА  
ШКОЛЬНИКОВ ПО ОБЖ. 2023–2024 уч. г.  
ШКОЛЬНЫЙ ЭТАП. 10–11 КЛАССЫ

Тестовые задания

Определите один правильный ответ.

За правильный ответ начисляется 2 балла.

1. О чём предупреждает изображённый дорожный знак?

а) о скользкой дороге  
 б) о неровной дороге  
 в) об извилистой дороге  
 г) об искусственной неровности



2. Определите смысловое значение данного знака на водных объектах г. Москвы.

а) «Кататься на воде запрещено»  
 б) «Плыть на подручных средствах запрещено»  
 в) «При плавании на подручных средствах приближаться друг к другу запрещено»  
 г) «Букеируемые аттракционы на воде запрещены»



3. Чему приблизительно равно расстояние до грозового фронта, если после вспышки молнии до грома прошло 7 с?

а) 1780 м  
 б) 3330 м  
 в) 4230 м  
 г) 2380 м

4. Тайфун – местное название тропических ..., возникающих в районе Южно-Китайского моря, Филиппинских островов, в редких случаях доходящих до Приморского края Российской Федерации.

а) ураганов  
 б) циклонов  
 в) штормов  
 г) смерчей

5. Что нельзя делать ни в коем случае, если на улице к вам подошли люди и спрашивают, как найти улицу (дом)?

а) объяснять дорогу  
 б) провожать их  
 в) рисовать схему  
 г) вступать в разговор

6. Какое воинское звание имеет действующий министр обороны РФ?

- а) генерал-лейтенант  
б) генерал армии  
в) Маршал РФ  
г) генерал-полковник

7. С какого возраста граждане мужского пола получают подготовку по военно-учётным специальностям солдат, матросов, сержантов и старшин в общественных объединениях, общественно-государственных организациях и профессиональных образовательных организациях?

- а) с 15 лет  
б) с 18 лет  
в) с 16 лет  
г) с 17 лет

8. На изображении представлен

- а) ПМ  
б) ПММ  
в) ПСМ  
г) ПСК



9. Выберите метод специфической профилактики инфекционных заболеваний.

- а) закаливание  
б) приём витаминов  
в) применение профилактических прививок  
г) занятия физической культурой

10. До какого возраста пострадавшего запрещено выполнять надавливание на живот (приём Геймлиха) при попадании инородного тела в верхние дыхательные пути?

- а) до 1 года  
б) до 3 лет  
в) до 7 лет  
г) до 14 лет

16

**Определите два правильных ответа.**

За каждый правильный ответ начисляется 2 балла.

1. **Определите смысловое значение и область применения данного знака безопасности на объектах инфраструктуры ОАО «РЖД».**

- а) «Доступ посторонним запрещён!»  
 б) «Стоять, опасно для жизни!»  
 в) «Проход запрещён!»  
 г) устанавливается в непосредственной близости от мест возможных действий  
 д) устанавливается на платформе



2. **Определите смысловое значение и область применения СИНЕГО сигнального цвета в знаках безопасности.**

- а) указание  
 б) разрешение определенных действий  
 в) помощь, спасение  
 г) сообщение о нормальной работе оборудования, нормальном состоянии технологического процесса  
 д) предупреждение, предостережение о возможной опасности

3. **Выберите параметры техногенной чрезвычайной ситуации регионального характера.**

- а) зона чрезвычайной ситуации затрагивает территорию двух и более муниципальных районов, муниципальных округов, городских округов, расположенных на территории одного субъекта Российской Федерации  
 б) количество людей, погибших и (или) получивших ущерб здоровью, составляет свыше 500 человек либо размер материального ущерба составляет свыше 1,2 млрд рублей  
 в) количество людей, погибших и (или) получивших ущерб здоровью, составляет свыше 50 человек, но не более 500 человек, либо размер материального ущерба составляет свыше 12 млн рублей, но не более 1,2 млрд рублей  
 г) количество людей, погибших и (или) получивших ущерб здоровью, составляет не более 50 человек, либо размер материального ущерба составляет не более 12 млн рублей  
 д) зона чрезвычайной ситуации не выходит за пределы территории одного субъекта Российской Федерации



4. Что может являться источником биолого-социальной ЧС?

- а) железнодорожная авария
- б) катастрофа
- в) эпидемия
- г) цунами
- д) пандемия

5. Сообщения какой тематики принимает Главное управление уголовного розыска МВД России?

- а) о распространении информации, наносящей вред здоровью и развитию детей
- б) о незаконном обороте оружия
- в) об интернет-мошенничестве
- г) о пропаганде социальной, расовой, национальной или религиозной розни
- д) о скалпунтинге

6. Выберите отдельные рода войск ВС РФ.

- а) РВСН
- б) ПВО
- в) ВМФ
- г) РХБЗ
- д) ВДВ

7. Для гражданина Российской Федерации защита Отечества является

- а) правом
- б) предназначением
- в) обязательством
- г) долгом
- д) обязанностью

8. Автомат Калашникова калибра 5,56 мм АК-19 был разработан на базе автомата ... калибра ... и является индивидуальным стрелковым оружием.

- а) 5,45 мм
- б) 7,62 мм
- в) АК-12
- г) АКМ
- д) АК-15

9. Недостаток йода в организме человека может приводить к


- а) «куриной слепоте»
- б) повышенной кровоточивости
- в) нарушению синтеза тироксина
- г) нарушению синтеза инсулина
- д) снижению интеллекта в раннем детском возрасте



### Задание 2

Сопоставьте изображения авиационной техники воздушно-космических сил Российской Федерации с их наименованиями.

- Ту-160
- Бе-200
- Ту-95МС
- Ту-22М3
- Су-30МК
- МиГ-35
- Як-130
- Су-57

	Су - 57 -
	МиГ - 35 -
	Ту - 95МС +
	Су - 30МК -
	Бе - 200 -

10. При каких травмах и (или) состояниях пострадавшему придают оптимальное положение тела, изображённое на рисунке?

- а) травма позвоночника
- б) затруднение дыхания (одышка)
- в) травма таза
- г) большая кровопотеря (травматический шок)
- д) травма живота



### Теоретические задания

#### Задание 1

Расположите предложенные фрагменты в верной последовательности, чтобы в итоге получилось определение.

2	или без него, рабочий объём		1
4	превышает 50 куб. см или максимальная конструктивная		2
3	двигателя которого (в случае двигателя внутреннего сгорания)		3
5	скорость (при любом двигателе) превышает 50 км/ч		4
1	двухколёсное механическое транспортное средство с боковым прицепом		5

Запишите термин, определение которому Вы составили.

Мотоцикл

Укажите категорию и возраст, с которого предоставляется право управления транспортным средством, определение которому Вы составили. Категорию укажите заглавной латинской буквой, возраст – числом.

Категория – А  
Возраст – 18 лет

6

#### Задание 4

Установите соответствие между типом повязки и её характеристикой (описанием).

Тип повязки	Характеристика повязки
Ползучая	Накладывается в области локтевого или коленного суставов. Существует в двух вариантах: расходящаяся (повязка начинается в области сустава и чередуется турами бинта, которые накладываются выше и ниже сустава) и сходящаяся (повязка начинается с наложения двух круговых туров выше и ниже сустава, далее осуществляется бинтование по сходящемуся типу)
Циркулярная	Применяется в двух вариантах. Первый – без перегибов накладывается на цилиндрические части тела (плечо, бедро), второй – с перегибами накладывается на конусообразные части тела (голень, предплечье). Каждый последующий тур бинта перекрывает предыдущий на половину или две трети его ширины
Черепашья	Применяется для фиксации большого по протяжённости перевязочного материала на верхних или нижних конечностях. Между отдельными турами остаётся свободное пространство, равное примерно ширине бинта
Працевидная	Представляет собой разрезанную с двух сторон полосу марли (бинта) или любой мягкой материи
Спиральная	Является началом любой мягкой бинтовой повязки и может быть самостоятельной при бинтовании в области лучезапястного сустава, плеча, головы на небольших по протяжённости участках повреждения

Максимальная оценка за работу – 100 баллов.

7

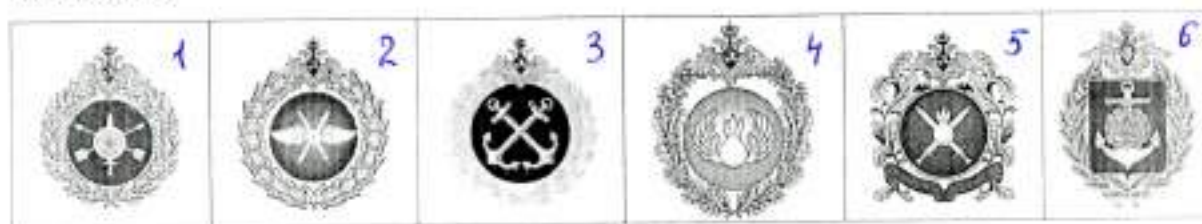
## Задание 3

Определите эмблемы и даты профессиональных праздников, соответствующие видам и родам войск.

Даты профессиональных праздников:

- последнее воскресенье июля
- 1 августа
- 1 октября
- 17 декабря
- 2 августа
- 2 февраля
- 27 января
- 1 марта
- 3 сентября

Эмблемы:



Виды/ рода войск	Даты профессиональных праздников	Эмблемы	
Сухопутные войска	1 октября +	5	f
Воздушно-космические силы	17 декабря -	2	+
Военно-морской флот	1 августа -	3	+
Ракетные войска стратегического назначения	3 сентября -	1	+
Воздушно-десантные войска	2 августа +	4	+



ВСЕРОССИЙСКАЯ ОЛИМПИАДА  
ШКОЛЬНИКОВ ПО ОБЖ. 2023–2024 уч. г.  
ШКОЛЬНЫЙ ЭТАП. 10–11 КЛАССЫ

59

Тестовые задания

Определите один правильный ответ.

За правильный ответ начисляется 2 балла.

1. О чём предупреждает изображённый дорожный знак?

- а) о скользкой дороге  
 б) о неровной дороге  
 в) об извилистой дороге  
 г) об искусственной неровности



2. Определите смысловое значение данного знака на водных объектах г. Москвы.

- а) «Кататься на воде запрещено»  
 б) «Плавать на подручных средствах запрещено»  
 в) «При плавании на подручных средствах приближаться друг к другу запрещено»  
 г) «Букириуемые аттракционы на воде запрещены»



3. Чему приблизительно равно расстояние до грозового фронта, если после вспышки молнии до грома прошло 7 с?


- а) 1780 м  
 б) 3330 м  
 в) 4230 м  
 г) 2380 м

4. Тайфун – местное название тропических ..., возникающих в районе Южно-Китайского моря, Филиппинских островов, в редких случаях доходящих до Приморского края Российской Федерации.

- а) ураганов  
 б) циклонов  
 в) штормов  
 г) смерчей

5. Что нельзя делать ни в коем случае, если на улице к вам подошли люди и спрашивают, как найти улицу (дом)?

- а) объяснять дорогу  
 б) провожать их  
 в) рисовать схему  
 г) вступать в разговор

6. **Какое воинское звание имеет действующий министр обороны РФ?**  
а) генерал-лейтенант  
б) генерал армии  
в) Маршал РФ  
г) генерал-полковник
7. **С какого возраста граждане мужского пола получают подготовку по военно-учётным специальностям солдат, матросов, сержантов и старшин в общественных объединениях, общественно-государственных организациях и профессиональных образовательных организациях?**  
а) с 15 лет  
б) с 18 лет  
в) с 16 лет  
г) с 17 лет
8. **На изображении представлен**
- а) ПМ  
б) ПММ  
в) ПСМ  
г) ПШК
- 
9. **Выберите метод специфической профилактики инфекционных заболеваний.**  
а) закаливание  
б) приём витаминов  
в) применение профилактических прививок  
г) занятия физической культурой
10. **До какого возраста пострадавшего запрещено выполнять надавливание на живот (приём Геймлиха) при попадании инородного тела в верхние дыхательные пути?**  
а) до 1 года  
б) до 3 лет  
в) до 7 лет  
г) до 14 лет

**Определите два правильных ответа.**

За каждый правильный ответ начисляется 2 балла.

1. Определите смысловое значение и область применения данного знака безопасности на объектах инфраструктуры ОАО «РЖД».

- а) «Доступ посторонним запрещён!»  
б) «Стоять, опасно для жизни!»  
в) «Проход запрещён!»  
г) устанавливается в непосредственной близости от мест возможных действий  
д) устанавливается на платформе



2. Определите смысловое значение и область применения СИНЕГО сигнального цвета в знаках безопасности.

- а) указание  
б) разрешение определенных действий  
в) помощь, спасение  
г) сообщение о нормальной работе оборудования, нормальном состоянии технологического процесса  
д) предупреждение, предостережение о возможной опасности

3. Выберите параметры техногенной чрезвычайной ситуации регионального характера.

- а) зона чрезвычайной ситуации затрагивает территорию двух и более муниципальных районов, муниципальных округов, городских округов, расположенных на территории одного субъекта Российской Федерации  
б) количество людей, погибших и (или) получивших ущерб здоровью, составляет свыше 500 человек либо размер материального ущерба составляет свыше 1,2 млрд рублей  
в) количество людей, погибших и (или) получивших ущерб здоровью, составляет свыше 50 человек, но не более 500 человек, либо размер материального ущерба составляет свыше 12 млн рублей, но не более 1,2 млрд рублей  
г) количество людей, погибших и (или) получивших ущерб здоровью, составляет не более 50 человек, либо размер материального ущерба составляет не более 12 млн рублей  
д) зона чрезвычайной ситуации не выходит за пределы территории одного субъекта Российской Федерации

4. Что может являться источником биолого-социальной ЧС?
- а) железнодорожная авария
  - б) катастрофа
  - в) эпидемия
  - г) цунами
  - д) панфитотия
5. Сообщения какой тематики принимает Главное управление уголовного розыска МВД России?
- а) о распространении информации, наносящей вред здоровью и развитию детей
  - б) о незаконном обороте оружия
  - в) об интернет-мошенничестве
  - г) о пропаганде социальной, расовой, национальной или религиозной розни
  - д) о скелшутинге
6. Выберите отдельные рода войск ВС РФ.
- а) РВСН
  - б) ПВО
  - в) ВМФ
  - г) РХБЗ
  - д) ВДВ
7. Для гражданина Российской Федерации защита Отечества является
- а) правом
  - б) предназначением
  - в) обязательством
  - г) долгом
  - д) обязанностью
8. Автомат Калашникова калибра 5,56 мм АК-19 был разработан на базе автомата ... калибра ... и является индивидуальным стрелковым оружием.
- а) 5,45 мм
  - б) 7,62 мм
  - в) АК-12
  - г) АКМ
  - д) АК-15
9. Недостаток йода в организме человека может приводить к
- а) «куриной слепоте»
  - б) повышенной кровоточивости
  - в) нарушению синтеза тироксина
  - г) нарушению синтеза инсулина
  - д) снижению интеллекта в раннем детском возрасте



10. При каких травмах и (или) состояниях пострадавшему придают оптимальное положение тела, изображённое на рисунке?

- а) травма позвоночника
- б) затруднение дыхания (одышка)
- в) травма таза
- г) большая кровопотеря (травматический шок)
- д) травма живота



### Теоретические задания

#### Задание 1

Расположите предложенные фрагменты в верной последовательности, чтобы в итоге получилось определение.

или без него, рабочий объём		1
превышает 50 куб. см или максимальная конструктивная		2
двигателя которого (в случае двигателя внутреннего сгорания)		3
скорость (при любом двигателе) превышает 50 км/ч		4
двухколёсное механическое транспортное средство с боковым прицепом		5

Запишите термин, определение которому Вы составили.

*Мотоциклы с боковым прицепом*

Укажите категорию и возраст, с которого предоставляется право управления транспортным средством, определению которому Вы составили. Категорию укажите заглавной латинской буквой, возраст – числом.

Категория – *A*

Возраст – *18*

## Задание 2

Сопоставьте изображения авиационной техники воздушно-космических сил Российской Федерации с их наименованиями.

- Ту-160
- Бе-200
- Ту-95МС
- Ту-22М3
- Су-30МК
- МиГ-35
- Як-130
- Су-57

	Бе-200
	Су-57
	Як-130
	Ту-160
	МиГ-35

#### Задание 4

Установите соответствие между типом повязки и её характеристикой (описанием).

Тип повязки	Характеристика повязки
Ползучая	Накладывается в области локтевого или коленного суставов. Существует в двух вариантах: расходящаяся (повязка начинается в области сустава и чередуется турами бинта, которые накладываются выше и ниже сустава) и сходящаяся (повязка начинается с наложения двух круговых туров выше и ниже сустава, далее осуществляется бинтование по сходящемуся типу)
Циркулярная	Применяется в двух вариантах. Первый – без перегибов накладывается на цилиндрические части тела (плечо, бедро), второй – с перегибами накладывается на конусообразные части тела (голень, предплечье). Каждый последующий тур бинта перекрывает предыдущий на половину или две трети его ширины
Черепашья	Применяется для фиксации большого по протяжённости перевязочного материала на верхних или нижних конечностях. Между отдельными турами остаётся свободное пространство, равное примерно ширине бинта
Пращевидная	Представляет собой разрезанную с двух сторон полосу марли (бинта) или любой мягкой материи
Спиральная	Является началом любой мягкой бинтовой повязки и может быть самостоятельной при бинтовании в области лучезапястного сустава, плеча, головы на небольших по протяжённости участках повреждения

Максимальная оценка за работу – 100 баллов.

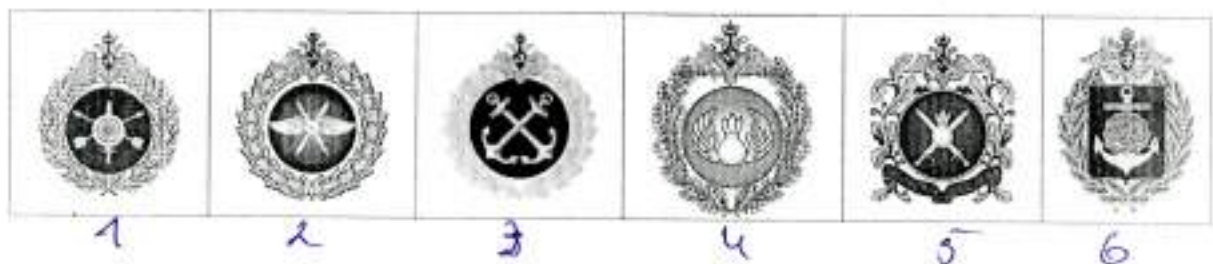
### Задание 3

Определите эмблемы и даты профессиональных праздников, соответствующие видам и родам войск.

Даты профессиональных праздников:

- последнее воскресенье июля
- 1 августа
- 1 октября
- 17 декабря
- 2 августа
- 2 февраля
- 27 января
- 1 марта
- 3 сентября

Эмблемы:



Виды/ рода войск	Даты профессиональных праздников	Эмблемы
Сухопутные войска	1 марта	1
Воздушно-космические силы	17 декабря	2
Военно-морской флот	3 сентября	6
Ракетные войска стратегического назначения	2 февраля	5
Воздушно-десантные войска	2 августа	4